



ИНТЕРПРЕТАЦИЯ
ИНФОРМАЦИИ
ПО РИСУНКУ

Определение стоимости

ООО "ФАКТОР"		
МОСКВА, КРИВОШЕЙНЫЙ ПР-Д, 148		

ЧЕК НА ПРОДАЖУ		
КАССА 3		
ЧЕК ПРОДАЖИ #12		
МОЛОКО БУТ.		
2 * 60.00	=	120.00
СЫР ЭДАМ, 200 ГР.		
1 * 150.00	=	150.00
САХАР-ПЕСОК ФАС.		
1 * 50.00	=	50.00
ЙОГУРТ СВЕЖИЙ		
3 * 55.00	=	165.00
БАТОН НАРЕЗНОЙ		
2 * 25.00	=	50.00
МОРКОВЬ ФАС.		
1 * 30.00	=	30.00
ПОМИДОРЫ		
1 * 80.00	=	80.00
ОГУРЦЫ		
1 * 75.00	=	75.00

ПОЗИЦИЙ	8	
ИТОГО		720.00

ИТОГО		720.00
ОПЛАТА НАЛИЧНЫМИ		
08.02.2016		

СПАСИБО ЗА ПОКУПКУ! РЕШУВ.ПР.РФ		

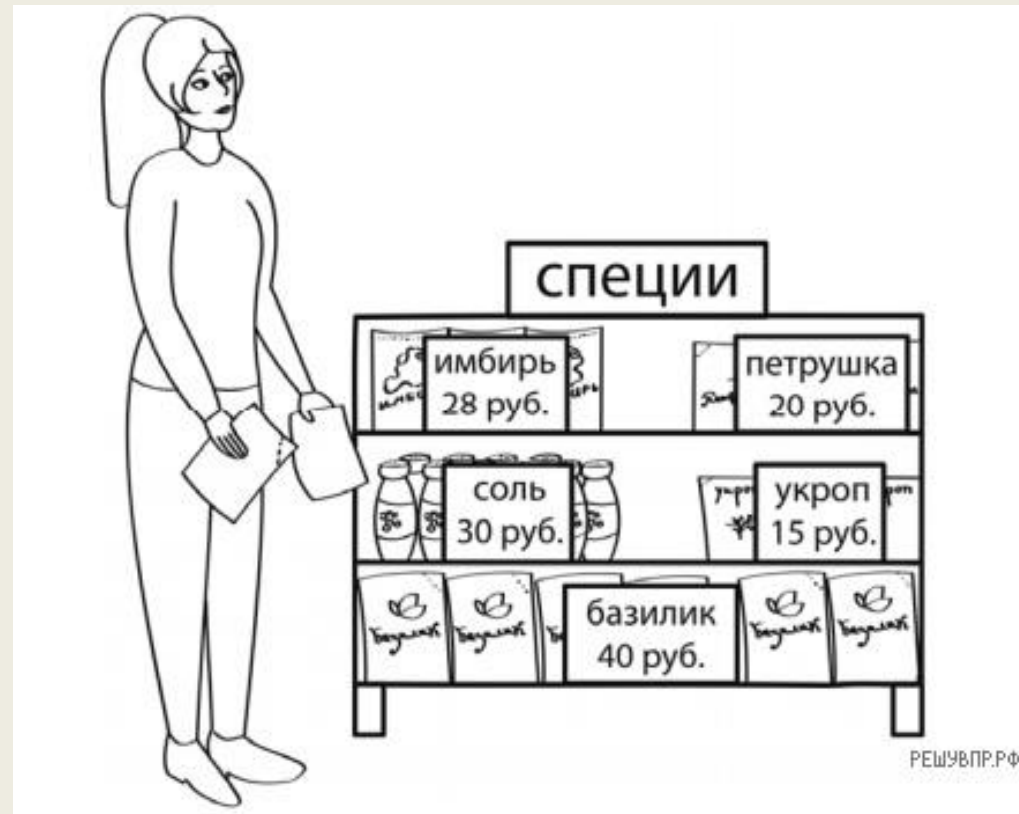
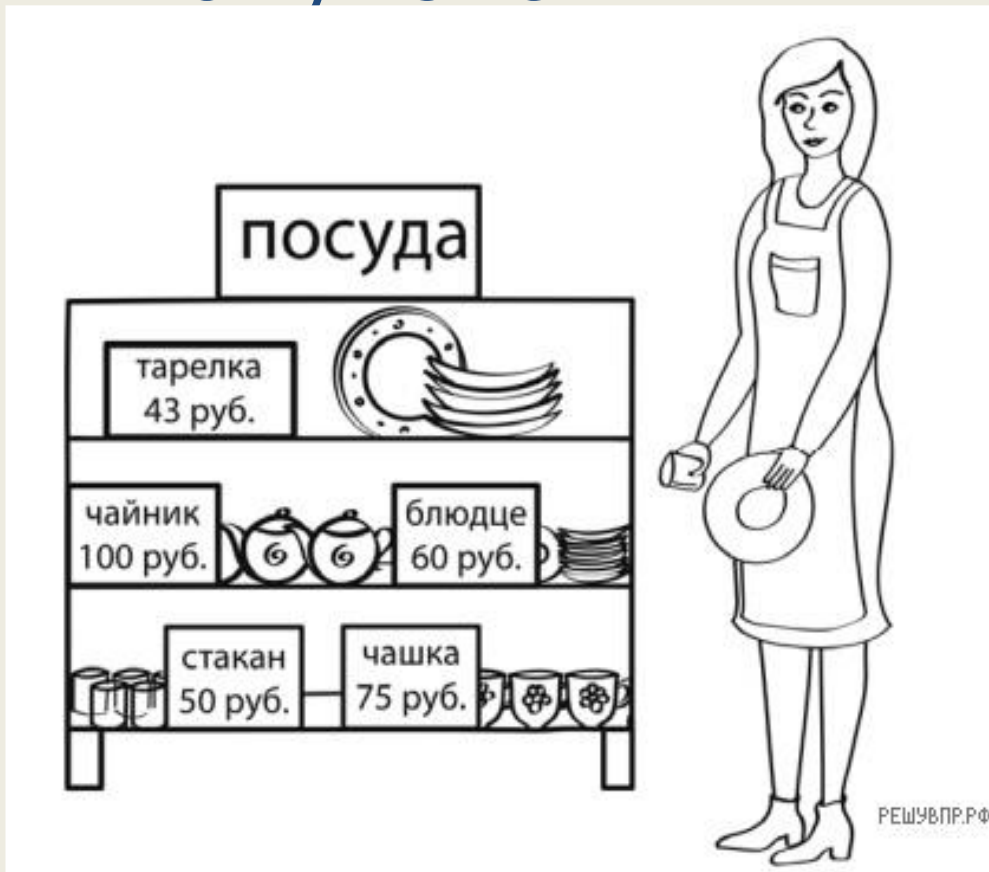
- Петя купил продукты. В чеке указано наименование каждого товара, количество и цена. Например, Петя купил две бутылки молока по 60 р. и заплатил за них 120 р. Помидоры, огурцы и сахар он купил для соседки. Сколько рублей соседка должна вернуть Пете?

Определение стоимости

 <p>Колесо обозрения детский.....60 руб. взрослый.....80 руб.</p>	 <p>Американские горки детский.....100 руб. взрослый.....120 руб.</p>	 <p>Лабиринт детский.....60 руб. взрослый.....80 руб.</p>
 <p>Автодром детский.....70 руб. взрослый.....90 руб.</p>	 <p>Карусель детский.....50 руб. взрослый.....70 руб.</p>	 <p>Комната страха детский.....50 руб. взрослый.....70 руб.</p>
 <p>Батут детский.....50 руб. 5 мин.</p>	 <p>Паровозик детский.....50 руб.</p>	 <p>Комната смеха детский.....60 руб. взрослый.....100 руб.</p>

- Мама с дочкой пришли в парк с аттракционами и купили два билета на колесо обозрения: взрослый и детский, а также детский билет на батут на 5 минут. Цены на билеты показаны на рисунке. Сколько рублей они заплатили за все билеты?

Сколько рублей сдачи получит покупатель...



Нахождение сдачи



- Федя хочет пообедать в кафе. Меню показано на рисунке. Федя выбрал солянку, пиццу и зелёный чай и отдал продавцу 500 рублей.
- Сколько рублей сдачи он должен получить?

Рассмотри рисунок и ответь на вопрос



- Сколько рублей сдачи получит покупатель, расплатившийся за пакет молока и батон хлеба купюрой в 100 рублей?

Рассмотри рисунок и ответь на вопрос



- Сколько рублей сдачи получит покупатель, расплатившийся за пакет молока и батон хлеба купюрой в 100 рублей?
- $100 - (32 + 33) = 35$ руб.

Рассмотри рисунок и ответь на вопрос



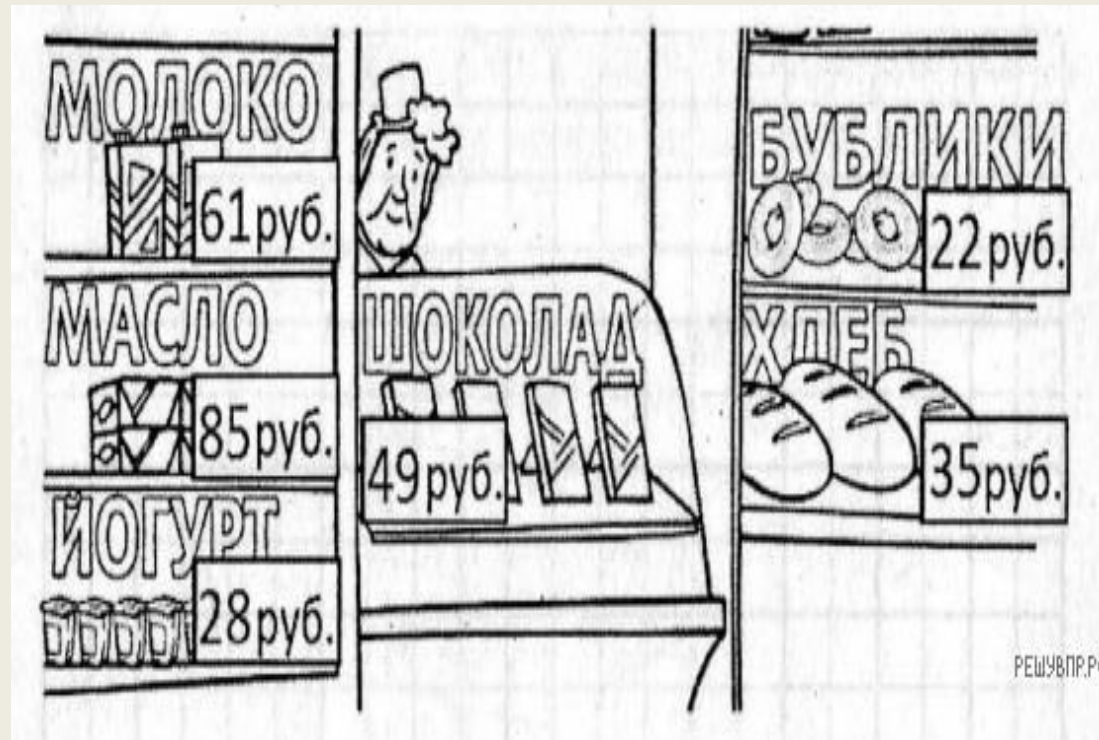
- У Лёни есть 450 рублей, и ему нужно купить три пакета молока и пачку масла. Лёня решил на все оставшиеся деньги купить шоколадки. Сколько шоколадок он сможет купить?

Рассмотри рисунок и ответь на вопрос



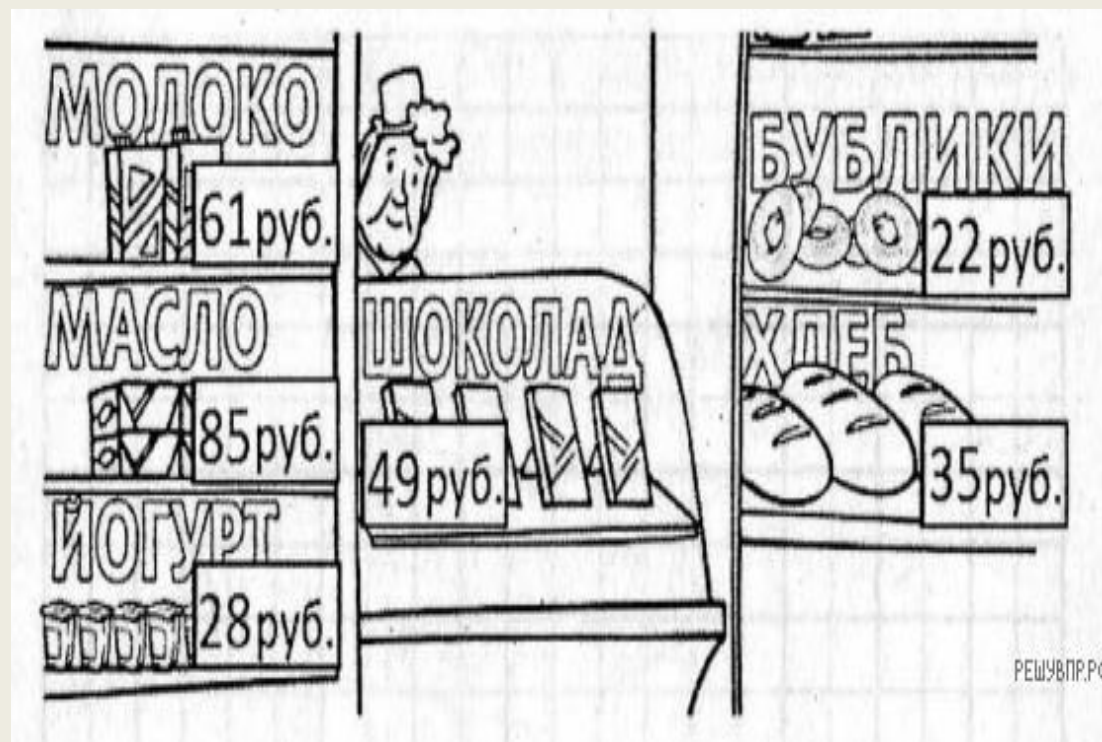
- У Лёни есть 450 рублей, и ему нужно купить три пакета молока и пачку масла. Лёня решил на все оставшиеся деньги купить шоколадки. Сколько шоколадок он сможет купить?
- $56 \cdot 3 + 92 = 260$ (руб.)
- $450 - 260 = 190$ (руб.)
- $190 : 39 = 4$ (ост.34)

Рассмотри рисунок и ответь на вопрос



- У Саши есть 300 рублей, и ему нужно купить шесть стаканчиков йогурта и две булки хлеба. Саша решил на все оставшиеся деньги купить бублики. Сколько сдачи он получит в итоге?

Рассмотри рисунок и ответь на вопрос



- У Саши есть 300 рублей, и ему нужно купить шесть стаканчиков йогурта и две булки хлеба. Саша решил на все оставшиеся деньги купить бублики. Сколько сдачи он получит в итоге?
- $300 - 28 \cdot 6 - 35 \cdot 2 = 62$ (руб.)
- $62 : 22 = 2$ (ост. 18)

Рассмотри рисунок и реши задачу

ЯБЛОКИ  85 руб.	КЛУБНИКА  150 руб.	ПЕРЕЦ  150 руб.
МОРКОВЬ  35 руб.	ПОМИДОРЫ  120 руб.	КАПУСТА  50 руб.

- У Тани есть 1500 рублей, и ей нужно купить 2 кг капусты, 1 кг перца, 1 кг моркови и 2 килограмма помидоров. Какое наибольшее число лукошек клубники может купить Таня на оставшиеся деньги?

Рассмотри рисунок и реши задачу

ЯБЛОКИ  85 руб.	КЛУБНИКА  150 руб.	ПЕРЕЦ  150 руб.
МОРКОВЬ  35 руб.	ПОМИДОРЫ  120 руб.	КАПУСТА  50 руб.

- У Тани есть 1500 рублей, и ей нужно купить 2 кг капусты, 1 кг перца, 1 кг моркови и 2 килограмма помидоров. Какое наибольшее число лукошек клубники может купить Таня на оставшиеся деньги?
- $1500 - (50 \cdot 2 + 150 + 35 + 120 \cdot 2) = 975$ (руб.)
- $975 : 150 = 6$ (ост. 75)

Рассмотри рисунок и реши задачу

ЯБЛОКИ  90 руб.	БАНАНЫ  100 руб.	ПЕРЕЦ  160 руб.
МОРКОВЬ  45 руб.	ПОМИДОРЫ  110 руб.	КАПУСТА  35 руб.

- У Пети есть 1075 рублей, и ему нужно купить 1 кг моркови, 2 кг перца, 1 кг яблок и 2 кг помидоров. Какое наибольшее количество бананов сможет купить Петя на оставшиеся деньги, если пять бананов весят 1 килограмм?

Рассмотри рисунок и реши задачу

ЯБЛОКИ  90 руб.	БАНАНЫ  100 руб.	ПЕРЕЦ  160 руб.
МОРКОВЬ  45 руб.	ПОМИДОРЫ  110 руб.	КАПУСТА  35 руб.

- У Пети есть 1075 рублей, и ему нужно купить 1 кг моркови, 2 кг перца, 1 кг яблок и 2 кг помидоров. Какое наибольшее количество бананов сможет купить Петя на оставшиеся деньги, если пять бананов весят 1 килограмм?
- $1075 - (45 + 160 \cdot 2 + 90 + 110 \cdot 2) = 400$ (руб.)
- $400 : 100 = 4$ (кг)
- $5 \cdot 4 = 20$ (бананов)

На сколько километров один путь короче другого?



Афиша

	<u>Три толстяка</u> 09 : 45 ☆☆☆☆☆
	<u>Три поросёнка</u> 11 : 00 ☆☆☆☆☆
	<u>Три медведя</u> 12 : 10 ☆☆☆☆☆
 <i>Сын за лес и лес за одного!</i>	<u>Три мушкетёра</u> 14 : 50 ☆☆☆☆☆
	<u>101 далматинец</u> 17 : 20 ☆☆☆☆☆ РЕШУВ.ПР.РФ

- На афише представлено расписание сеансов кинотеатра на сегодня. После каждого сеанса в зале проводится уборка. Уборку нужно закончить за 10 минут до начала следующего сеанса. Известно, что мультфильм «Три поросёнка» состоит из двух частей, которые показывают без перерыва, а каждая часть длится 25 минут. Рассмотрите расписание и ответьте на вопрос: сколько времени будет у сотрудников на уборку зала после показа мультфильма «Три поросёнка»?

Афиша

	<u>Три толстяка</u> 09 : 45 ☆☆☆☆☆
	<u>Три поросёнка</u> 11 : 00 ☆☆☆☆☆
	<u>Три медведя</u> 12 : 10 ☆☆☆☆☆
 <p><i>Своя па-леса и все за одного!</i></p>	<u>Три мушкетёра</u> 14 : 50 ☆☆☆☆☆
	<u>101 далматинец</u> 17 : 20 ☆☆☆☆☆ РЕШУВ.Р.Р

- На афише представлено расписание сеансов кинотеатра на сегодня. После каждого сеанса в зале проводится уборка. Уборку нужно закончить за 10 минут до начала следующего сеанса. Известно, что мультфильм «Три поросёнка» состоит из двух частей, которые показывают без перерыва, а каждая часть длится 25 минут. Рассмотрите расписание и ответьте на вопрос: сколько времени будет у сотрудников на уборку зала после показа мультфильма «Три поросёнка»?
- $25 + 25 = 50$ (минут) – продолжительность мультфильма «Три поросёнка»
- В 11 часов 50 минут закончится мультфильм «Три поросёнка». Закончить уборку нужно в 12.00.
- Ответ. 10 минут

Спасибо за работу!

