



Онлайн мастерская «Школа профессионального мастерства»

Разбор задания №11 РИКУ. Формирование
читательской грамотности. Вариант 3.

09 апреля 2026 г.

Спикер: ст. преподаватель Калачева И.Е.

Прочитайте текст и выполните задания.

Россия в период правления Александра II

Текст 1

С 1854 г. началось массовое бегство крестьян от помещиков, охватившее многие губернии. 2 апреля 1854 г. был обнародован царский Манифест о формировании резервной гребной флотилии («морского ополчения»). В неё могли записаться и помещичьи крестьяне, но с согласия помещика и с письменным обязательством о возвращении к нему после роспуска флотилии. Указ ограничивал район формирования флотилии всего четырьмя губерниями – Петербургской, Олонецкой, Новгородской и Тверской. Но весть об указе всколыхнула крестьян центральных и поволжских губерний. Среди крестьян разнеслась молва о том, что «государь император призывает всех охотников в военную службу на время и что за это семейства их освободятся навсегда не только от крепостного состояния, но и от рекрутства и от платежа казённых повинностей». Самовольный уход для записи в ополчение вылился в массовое бегство крестьян от помещиков.

Ещё более широкий характер приняло это явление в связи с Манифестом 29 января 1855 г. о наборе ратников в «подвижное сухопутное ополчение».

(Федоров В.А. История России. 1861–1917. Учебник. – 2-е изд., перераб. и доп. – М.: ЮРАЙТ, 2011. – URL: http://krotov.info/libr_min/21_f/ed/orov_02.htm)

Текст 2

В результате [крестьянской реформы] помещичьи крестьяне получили в среднем по 3,3 десятины на ревизскую душу, т.е. на мужчину (женщинам земля не отводилась). Это меньше той земли, которой они пользовались до реформы, и не обеспечивало им прожиточного минимума. Всего по чернозёмным губерниям помещики отрезали у крестьян 1/5 их земель. Больше всего земли потеряли крестьяне Поволжья. Если в Московской, Смоленской, Новгородской губерниях отрезки составляли от 3 до 7,5% крестьянских земель, то в Казанской губернии – 29,8%, в Самарской – 41,8%, в Саратовской – 42,4%. «Дал царь мужику землю, да так пригнал, что пришлось на душу без малого, что по одной ступне», – говорит об этом народническая прокламация. Тогда-то и родилась поговорка: «Курёнка некуда выпустить».

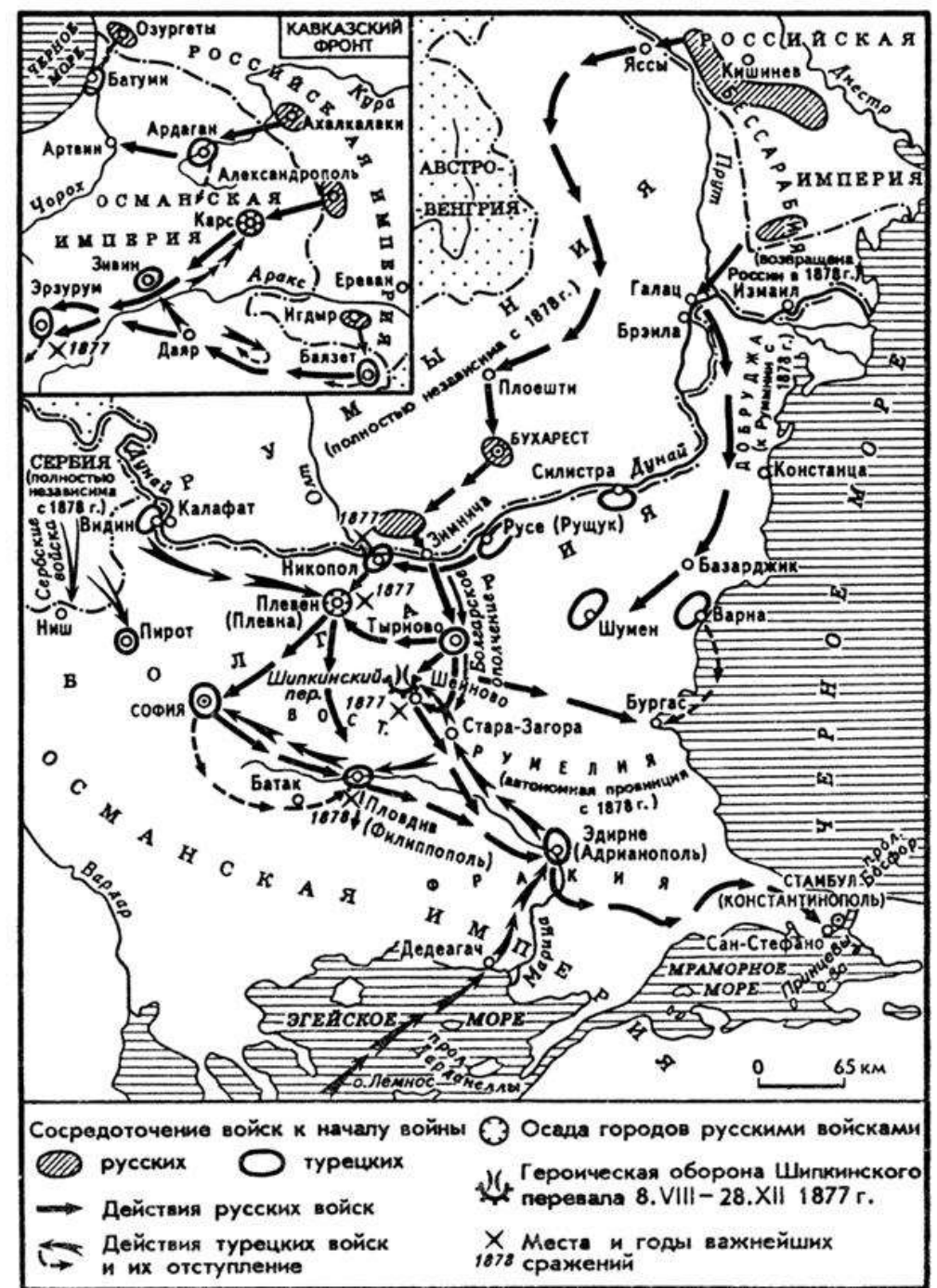
Вся земля, которую крестьяне получили в «постоянное пользование», юридически оставалась собственностью помещиков до заключения выкупной сделки. Пока же эта сделка не была заключена, крестьяне считались «временнообязанными», т.е. по-прежнему выполняли за пользование землёй феодальные повинности. Срок временнообязанного состояния вначале не был определён. Только 28 декабря 1881 г. (в обстановке второй революционной ситуации) последовал закон об обязательном выкупе – закон, по которому все временнообязанные крестьяне переводились на выкуп, но не сразу, а с 1 января 1883 г.

(Троицкий Н. Россия в XIX веке: Курс лекций. – URL: https://scepsis.net/library/id_1480.html)



Текст 3

После форсирования Дуная русские войска были разделены на три группы. Отряд молодого генерала И.В. Гурко вместе с болгарскими добровольцами (15 тыс.) получил самое сложное задание: перейти Балканы и зайти в тыл турецкой армии в районе Адрианополя. Отряд генерала Н.П. Криденера должен был занять г. Никополь, _____, обеспечив правый фланг всей армии. Самому многочисленному Рушукскому отряду под командованием наследника престола Александра Александровича следовало овладеть крепостью Руцук и обеспечить левый фланг. В результате такого расположения войск силы армии были расщеплены на значительной территории, более половины их находилось на флангах, а для наступательных действий оставался один отряд Гурко. Этими малочисленными силами он должен был перейти Балканы и нанести удар по Адрианополю. Выполняя план командования, Гурко овладел древней столицей Болгарии – городом Тырново, после чего предстоял тяжелейший переход через Балканы, требовавший мужества и выносливости солдат... Силы были неравны...



Русско-турецкая война 1877-1878 гг.

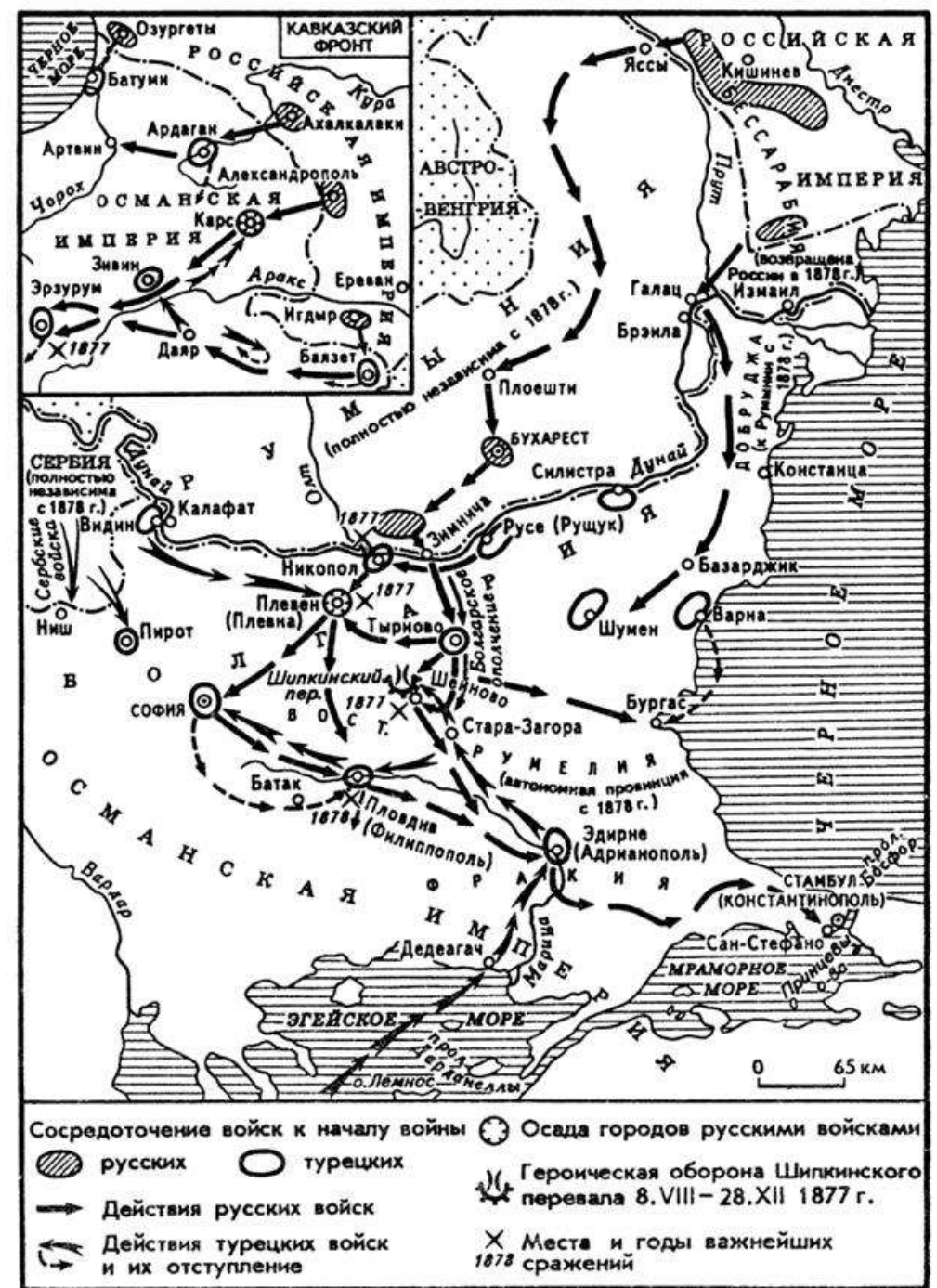


Текст 3

На других фронтах события развивались следующим образом. Западная армия Криденера после занятия Никополя направилась к _____ – мощному укреплению, куда сходились пути от Руцука, Систова, Софии, Ловчи. Отсюда шёл путь на Шипкинский перевал. Плевна, расположенная у реки Гривица, на холмах, пересечённых оврагами, была удобна для обороны и невыгодна для наступления. К _____ быстрым маршем подходил отряд талантливого турецкого военачальника, боевого генерала Османа-паши. Медлительность Криденера турки использовали для укрепления крепости и подтягивания новых сил. Первое столкновение малочисленного отряда Криденера (9 тыс.) с турками (15 тыс.) 1877 г. закончилось поражением русских.

(Россия и балканский кризис середины 1870-х гг. Предпосылки, ход и итоги русско-турецкой войны 1877–1878 гг. // Студопедия. –

URL: https://studopedia.ru/3_155436_rossiya-i-balkanskiy-krizis-seredini-h-gg-predposilki-hod-i-itogi-russkoturetskoy-voyni--gg.html)



Русско-турецкая война 1877-1878 гг.



Текст 4

Первое, что бросается в глаза, это то, что во многих деревнях крестьяне получили в надел менее того количества земли, какое у них было в пользовании при крепостном праве. Вся лишняя за указанным наделом земля была отрезана во владение помещика и составила так называемые отрезки, зацепки, зацепные земли. Где есть отрезки, там и крестьяне беднее, и недоимок более. Очень часто можно видеть, что деревни, даже не имеющие полного надела, но получившие то количество земли, каким они пользовались при крепостном праве, живут зажиточнее, чем те деревни, которые, хотя и получили полный надел, но у них были отрезки. От этого же случается иногда видеть, что крестьяне, которые хорошо жили при крепостном праве, теперь обеднели, а те, которые были при крепостном праве бедны, теперь живут лучше.

Это совершенно понятно. Ясно, что при крепостном праве помещик, особенно если у него не было недостатка земли, оставлял в пользовании крестьян такое количество земли, которое обеспечивало бы исправное отбывание повинностей по отношению к помещику и казне. Если в пользовании крестьян было много земли, то это значит, что или земля нехороша, или не было у крестьян хороших лугов, недостаток которых нужно было наполнить плохими пустошами, или деревня лежала отдельно, не в связи с господской запашкой, окружённая чужими землями, так что нуждалась в выгоне. При наделении крестьян лишняя против положений земля была отрезана, и этот отрезок, существенно необходимый крестьянам, поступив в чужое владение, стеснил крестьян уже по одному своему положению, так как он обыкновенно охватывает их землю узкой полосой и прилегает ко всем трём полям, а потому, куда скотина ни выскочит, непременно попадёт на принадлежащую пану землю.



Текст 4

Сначала, пока помещики ещё не понимали значения отрезков, и там, где крестьяне были попрактичнее и менее надеялись на «новую волю», они успели приобрести отрезки в собственность, или за деньги, или за какую-нибудь отработку, такие теперь сравнительно благоденствуют. Теперь же значение отрезков все понимают, и каждый покупатель имения, каждый арендатор, даже не умеющий по-русски говорить немец, прежде всего смотрит, есть ли отрезки, как они расположены и насколько затесняют крестьян. У нас повсеместно за отрезки крестьяне обрабатывают помещикам землю – именно работают круги, то есть на своих лошадях, со своими орудиями, производят, как при крепостном праве, полную обработку во всех трёх полях. Оцениваются эти отрезки – часто, в сущности, просто ничего не стоящие, не по качеству земли, не по производительности их, а лишь по тому, насколько они необходимы крестьянам, насколько они их затесняют, насколько возможно выжать с крестьян за эти отрезки. Понятно, что всё это зависит от множества разнообразных условий. Добро бы ещё эти отрезки сдавались крестьянам за арендную плату деньгами, а то нет – непременно под работу. И что всего нелепее, очень часто вся эта работа не приносит помещику, вследствие его неумелого хозяйства, никакой пользы, и бесплодно для всех зарывается в землю.

(Энгельгардт А.Н. Письма из деревни (1872–1887 гг.). – URL: <http://www.hist.msu.ru/ER/Text/ENGLGRDT/07.htm>



Текст 5

В воскресенье 1 марта 1881 г. утром император принимал министра внутренних дел. Александру понравился его план (либеральных преобразований), который как бы возвращал его в счастливые дни начала царствования. Он одобрил доклад министра и назначил на 4 марта заседание Совета министров под своим председательством.

В третьем часу пополудни император возвращался во дворец. Столица казалась необычайно притихшей. Чувствовалось какое-то скрытое напряжение. Царская карета следовала в окружении казаков, за ней – сани полицмейстера. Выехали на Екатерининский канал – и тут словно кто-то выстрелил из пушки. Карету тряхнуло и окутало дымом. Александр велел остановиться. Выбравшись наружу, он увидел двух окровавленных казаков и кричащего от боли мальчика, случайно пробежавшего мимо.



Текст 5

Поодаль молодой человек с длинными волосами (Николай Рысаков) отбивался от наседавшей толпы: «Не трогай меня, не бей меня, несчастный, заблуждённый народ!» Александр подошёл к нему и спросил: «Что ты сделал, сумасшедший?» Подбежал полицмейстер: «Ваше величество, не ранены?» – «Слава Богу, нет», – сказал царь. «Что? Слава Богу? – вдруг с вызовом переспросил Рысаков. – Смотрите, не ошиблись ли?» Никто не понял скрытый смысл его слов. Александр склонился над затихшим мальчиком, перекрестил его и пошёл к своему экипажу. Вдруг – опять словно выстрел из пушки, густое облако дыма. Когда дым рассеялся, оставшиеся невредимыми увидели человек двадцать тяжелораненых, царя, прислонившегося к решётке канала, в разорванной шинели и без ног, а напротив него – в таком же состоянии – его убийцу Гриневицкого. «Во дворец... Там – умереть...», – еле слышно сказал Александр II. Через час с «небольшим» он скончался в своём кабинете в Зимнем дворце.

(Боханов А.Н. История России с начала XVIII до конца XIX века. – URL: <https://history.wikireading.ru/119244>)



Задание №1.

Что, согласно тексту 4, в первую очередь влияло на стоимость отрезков в период, когда автором был написан данный текст?

- Качество почвы на отрезках.
- Площадь отрезков.
- Насколько отрезки были необходимы крестьянам и насколько они их стесняли.
- Расстояние от деревни до отрезков.

Энгельгардт А.Н. Письма из деревни (1872–1887 гг.).

При наделении крестьян лишняя против положений земля была отрезана, и этот отрезок, существенно необходимый крестьянам, поступив в чужое владение, **стеснил** крестьян уже по одному своему положению, так как он обыкновенно охватывает их землю узкой полосой и прилегает ко всем трём полям, а потому, куда скотина ни выскочит, непременно попадёт на принадлежащую пану землю.



Задание №1.

Что, согласно тексту 4, в первую очередь влияло на стоимость отрезков в период, когда автором был написан данный текст?

- Качество почвы на отрезках.
- Площадь отрезков.
- **Насколько отрезки были необходимы крестьянам и насколько они их стесняли.**
- Расстояние от деревни до отрезков.

Энгельгардт А.Н. Письма из деревни (1872–1887 гг.).

При наделении крестьян лишняя против положений земля была отрезана, и этот отрезок, существенно необходимый крестьянам, поступив в чужое владение, **стеснил** крестьян уже по одному своему положению, так как он обыкновенно охватывает их землю узкой полосой и прилегает ко всем трём полям, а потому, куда скотина ни выскочит, непременно попадёт на принадлежащую пану землю.



Задание №2. Выберите правильный ответ.

Какое из перечисленных суждений в наибольшей степени передаёт основную мысль текста 1? Напишите порядковый номер верного суждения.

- 1) Резервная гребная флотилия в 1854 г. формировалась из крепостных крестьян.
- 2) Крестьян, записавшихся в резервную гребную флотилию, освобождали от крепостного состояния, от рекрутства и от платежа казённых повинностей.
- 3) Ситуация, связанная с событиями Крымской войны, продемонстрировала желание крестьян избавиться от крепостной зависимости.
- 4) Крымская война отрицательно сказалась на экономическом развитии России.



Номер: 66EB50



2 (EFDC72)

Статус задания: **НЕ РЕШЕНО**

ОТВЕТИТЬ

Среди крестьян разнеслась молва о том, что «государь император призывает всех охотников в военную службу на время и что за это семейства их освободятся навсегда не только от крепостного состояния, но и от рекрутства и от платежа казённых повинностей».



Задание №2. Выберите правильный ответ.

Какое из перечисленных суждений в наибольшей степени передаёт основную мысль текста 1? Напишите порядковый номер верного суждения.

- 1) Резервная гребная флотилия в 1854 г. формировалась из крепостных крестьян.
- 2) Крестьян, записавшихся в резервную гребную флотилию, освобождали от крепостного состояния, от рекрутства и от платежа казённых повинностей.
- 3) Ситуация, связанная с событиями Крымской войны, продемонстрировала желание крестьян избавиться от крепостной зависимости.
- 4) Крымская война отрицательно сказалась на экономическом развитии России.



Номер: 66EB50



2 (EFDC72)

Статус задания: **ВЕРНО**

ОТВЕТИТЬ

Среди крестьян разнеслась молва о том, что «государь император призывает всех охотников в военную службу на время и что за это семейства их освободятся навсегда не только от крепостного состояния, но и от рекрутства и от платежа казённых повинностей».



Задание №5. Впишите правильный ответ.

Используя карту и текст 3, укажите название города, трижды пропущенное в этом тексте.


Задание №5. Впишите правильный ответ.

Используя карту и текст 3, укажите название города, трижды пропущенное в этом тексте.

i Номер: A58DB4 ★  5 (EFDC72)

Статус задания: **НЕ РЕШЕНО**

ОТВЕТИТЬ



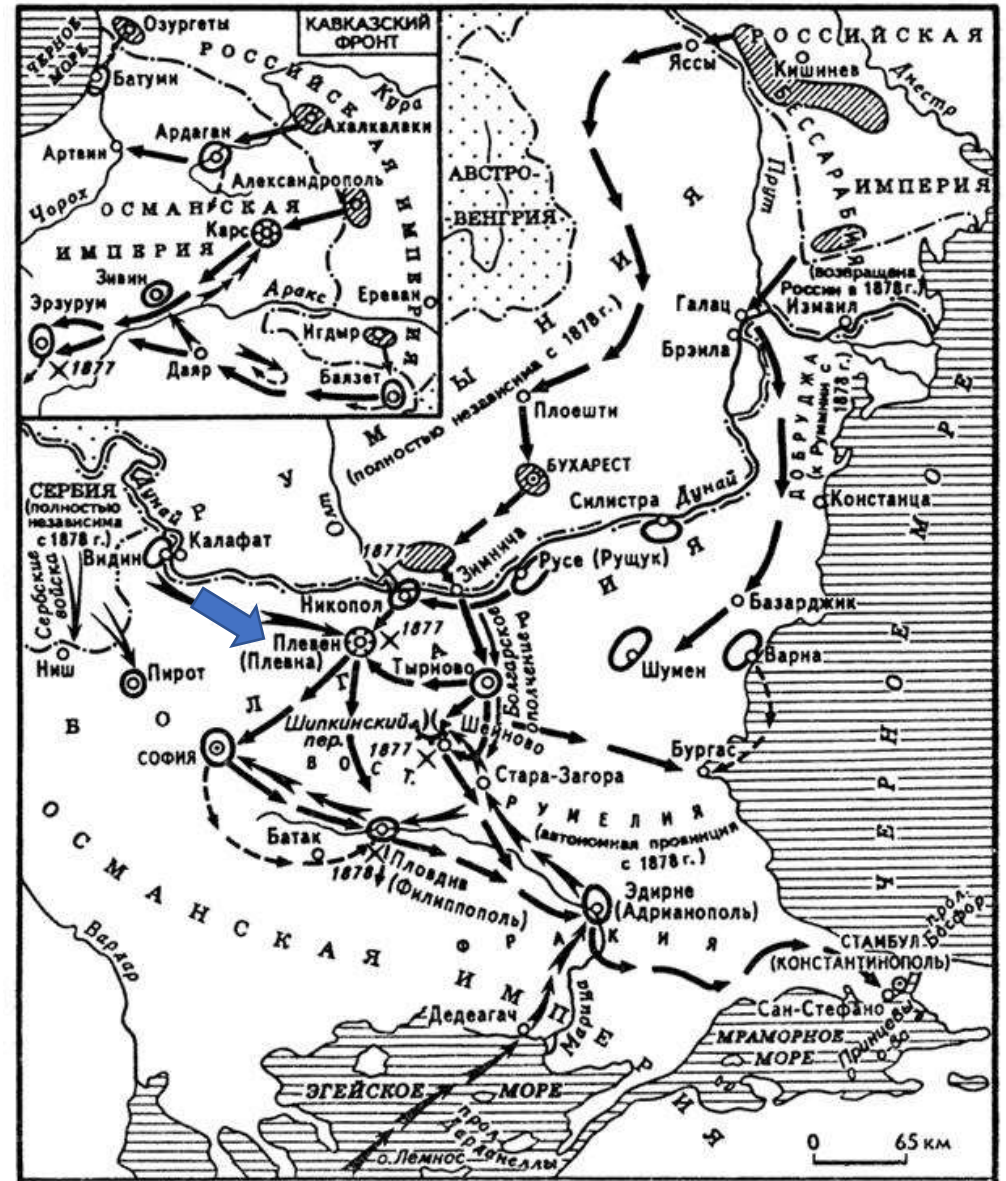
Задание №5. Впишите правильный ответ.

Используя карту и текст 3, укажите название города, трижды пропущенное в этом тексте.

На других фронтах события развивались следующим образом. Западная армия Криденера после занятия Никополя направилась к _____ — мощному укреплению, куда сходились пути от Рузюка, Систова, Софии, Ловчи. Отсюда шёл путь на Шипкинский перевал. **Плевна**, расположенная у реки Гривица, на холмах, пересечённых оврагами, была удобна для обороны и невыгодна для наступления. К _____ быстрым маршем подходил отряд талантливого турецкого военачальника, боевого генерала Османа-паши. Медлительность Криденера турки использовали для укрепления крепости и подтягивания новых сил. Первое столкновение малочисленного отряда Криденера (9 тыс.) с турками (15 тыс.) 1877 г. закончилось поражением русских.

(Россия и балканский кризис середины 1870-х гг. Предпосылки, ход и итоги русско-турецкой войны 1877–1878 гг. // Студопедия. —

URL: https://studopedia.ru/3_155436_rossiya-i-balkanskiy-krizis-seredini-h-gg-predposilki-hod-i-itogi-russkoturetskoy-voini--gg.html)



Задание №5. Впишите правильный ответ.

Используя карту и текст 3, укажите название города, трижды пропущенное в этом тексте.

Задание №5. Впишите правильный ответ.

Используя карту и текст 3, укажите название города, трижды пропущенное в этом тексте.

Плевна



Номер: A58DB4



5 (EFDC72)

Статус задания: **ВЕРНО**

ОТВЕТИТЬ



Задание №6.

Приведите предложение из текста 5, которое иллюстрирует картина, данная к этому тексту.

- В третьем часу пополудни император возвращался во дворец.
- Царская карета следовала в окружении казаков, за ней – сани полицмейстера.
- Вдруг – опять словно выстрел из пушки, густое облако дыма.
- Когда дым рассеялся, оставшиеся невредимыми увидели человек двадцать тяжелораненых.



Задание №6.

Приведите предложение из текста 5, которое иллюстрирует картина, данная к этому тексту.

- В третьем часу пополудни император возвращался во дворец.
- Царская карета следовала в окружении казаков, за ней – сани полицмейстера.
- **Вдруг – опять словно выстрел из пушки, густое облако дыма.**
- Когда дым рассеялся, оставшиеся невредимыми увидели человек двадцать тяжелораненых.



Задание №8.

Используя текст 3, укажите два обстоятельства, которые препятствовали успешности действий русских войск.

- Слабая подготовка солдат и офицеров.
- Рассредоточение сил на большой территории и малочисленность наступательного отряда.
- Отсутствие поддержки местного населения.
- Плохое снабжение армии продовольствием и боеприпасами.
- Медлительность и нерешительность действий генерала Криденера.

В результате такого расположения войск силы армии были **рассредоточены на значительной территории**, более половины их находилось на флангах, а для наступательных действий оставался один отряд Гурко. **Медлительность** Криденера турки использовали для укрепления крепости и подтягивания новых сил.



Задание №8.

Используя текст 3, укажите два обстоятельства, которые препятствовали успешности действий русских войск.

- Слабая подготовка солдат и офицеров.
- Распределение сил на большой территории и малочисленность наступательного отряда.**
- Отсутствие поддержки местного населения.
- Плохое снабжение армии продовольствием и боеприпасами.
- Медлительность и нерешительность действий генерала Криденера.**

В результате такого расположения войск силы армии были **распределены на значительной территории**, более половины их находилось на флангах, а для наступательных действий оставался один отряд Гурко. **Медлительность** Криденера турки использовали для укрепления крепости и подтягивания новых сил.



Используя карту и текст 2, ответьте на вопрос.

Сколько десятин земли в среднем получили помещичьи крестьяне на одну ревизскую душу (мужчину) по условиям крестьянской реформы?

- 2,2 десятины
- 3,3 десятины
- 4,4 десятины
- 5,5 десятины



Текст 2

В результате [крестьянской реформы] помещичьи крестьяне получили в среднем по **3,3 десятины** на ревизскую душу, т.е. на мужчину (женщинам земля не отводилась). Это меньше той земли, которой они пользовались до реформы, и не обеспечивало им прожиточного минимума. Всего по чернозёмным губерниям помещики отрезали у крестьян 1/5 их земель. Больше всего земли потеряли крестьяне Поволжья. Если в Московской, Смоленской, Новгородской губерниях отрезки составляли от 3 до 7,5% крестьянских земель, то в Казанской губернии – 29,8%, в Самарской – 41,8%, в Саратовской – 42,4%. «Дал царь мужику землю, да так пригнал, что пришлось на душу без малого, что по одной ступне», – говорит об этом народническая прокламация. Тогда-то и родилась поговорка: «Курёнка некуда выпустить».

Вся земля, которую крестьяне получили в «постоянное пользование», юридически оставалась собственностью помещиков до заключения выкупной сделки. Пока же эта сделка не была заключена, крестьяне считались «временнообязанными», т.е. по-прежнему выполняли за пользование землёй феодальные повинности. Срок временнообязанного состояния вначале не был определён. Только 28 декабря 1881 г. (в обстановке второй революционной ситуации) последовал закон об обязательном выкупе – закон, по которому все временнообязанные крестьяне переводились на выкуп, но не сразу, а с 1 января 1883 г.

(Троицкий Н. Россия в XIX веке: Курс лекций. – URL: https://scepsis.net/library/id_1480.html)



Используя карту и текст 2, ответьте на вопрос.

Сколько десятин земли в среднем получили помещичьи крестьяне на одну ревизскую душу (мужчину) по условиям крестьянской реформы?

- 2,2 десятины
- 3,3 десятины
- 4,4 десятины
- 5,5 десятины



Используя карту и текст 2, ответьте на вопрос.

В тексте сказано, что больше всего земли потеряли крестьяне Поволжья. Найдите на карте губернии Поволжья. В какой из перечисленных губерний отрезки земель у крестьян были самыми большими по процентному соотношению?

- Московская губерния
- Новгородская губерния
- Саратовская губерния
- Смоленская губерния



Текст 2

В результате [крестьянской реформы] помещичьи крестьяне получили в среднем по 3,3 десятины на ревизскую душу, т.е. на мужчину (женщинам земля не отводилась). Это меньше той земли, которой они пользовались до реформы, и не обеспечивало им прожиточного минимума. Всего по чернозёмным губерниям помещики отрезали у крестьян 1/5 их земель. Больше всего земли потеряли крестьяне Поволжья. Если в **Московской, Смоленской, Новгородской губерниях отрезки составляли от 3 до 7,5% крестьянских земель, то в Казанской губернии – 29,8%, в Самарской – 41,8%, в Саратовской – 42,4%**. «Дал царь мужику землю, да так пригнал, что пришлось на душу без малого, что по одной ступне», – говорит об этом народническая прокламация. Тогда-то и родилась поговорка: «Курёнка некуда выпустить».

Вся земля, которую крестьяне получили в «постоянное пользование», юридически оставалась собственностью помещиков до заключения выкупной сделки. Пока же эта сделка не была заключена, крестьяне считались «временнообязанными», т.е. по-прежнему выполняли за пользование землёй феодальные повинности. Срок временнообязанного состояния вначале не был определён. Только 28 декабря 1881 г. (в обстановке второй революционной ситуации) последовал закон об обязательном выкупе – закон, по которому все временнообязанные крестьяне переводились на выкуп, но не сразу, а с 1 января 1883 г.

(Троицкий Н. Россия в XIX веке: Курс лекций. – URL: https://scepsis.net/library/id_1480.html)



Используя карту и текст 2, ответьте на вопрос.

В тексте сказано, что больше всего земли потеряли крестьяне Поволжья. Найдите на карте губернии Поволжья. В какой из перечисленных губерний отрезки земель у крестьян были самыми большими по процентному соотношению?

- Московская губерния - от 3 до 7,5%
- Новгородская губерния от 3 до 7,5%
- Саратовская губерния – 42,4%.
- Смоленская губерния - от 3 до 7,5%

Московской, Смоленской, Новгородской губерниях отрезки составляли от 3 до 7,5% крестьянских земель, то в Казанской губернии – 29,8%, в Самарской – 41,8%, в Саратовской – 42,4%.



Используя карту и текст 2, ответьте на вопрос.

Установите соответствие между губернией и процентом отрезков крестьянских земель.

Губерния	Процент отрезков
1. Казанская губерния	А. 41,8%
2. Самарская губерния	Б. 42,4%
3. Саратовская губерния	В. 29,8%

Московской, Смоленской, Новгородской губерниях отрезки составляли от 3 до 7,5% крестьянских земель, то в Казанской губернии – 29,8%, в Самарской – 41,8%, в Саратовской – 42,4%.

Используя карту и текст 2, ответьте на вопрос.

Установите соответствие между губернией и процентом отрезков крестьянских земель.

Губерния	Процент отрезков
1. Казанская губерния	А. 41,8%
2. Самарская губерния	Б. 42,4%
3. Саратовская губерния	В. 29,8%

Московской, Смоленской, Новгородской губерниях отрезки составляли от 3 до 7,5% крестьянских земель, то в Казанской губернии – 29,8%, в Самарской – 41,8%, в Саратовской – 42,4%.

Правильный ответ: 1-В, 2-А, 3-Б



Используя карту и текст 2, ответьте на вопрос.

Выберите варианты ответа, которые соответствуют тексту 2?

Выберите ВСЕ правильные варианты.

- Крестьяне получили земли больше, чем до реформы
- Полученной земли не хватало для прожиточного минимума
- Возникла поговорка «Курёнка некуда выпустить»
- Крестьяне сразу стали собственниками земли
- Крестьяне оставались временнообязанными до выкупной сделки

1. Это меньше той земли, которой они пользовались до реформы, и не обеспечивало им прожиточного минимума.
2. Тогда-то и родилась поговорка: «Курёнка некуда выпустить».
3. Вся земля, которую крестьяне получили в «постоянное пользование», юридически оставалась собственностью помещиков до заключения выкупной сделки.



Используя карту и текст 2, ответьте на вопрос.

Выберите варианты ответа, которые соответствуют тексту 2?

Выберите ВСЕ правильные варианты.

- Крестьяне получили земли больше, чем до реформы
- Полученной земли не хватало для прожиточного минимума
- Возникла поговорка «Курёнка некуда выпустить»
- Крестьяне сразу стали собственниками земли
- Крестьяне оставались временнообязанными до выкупной сделки

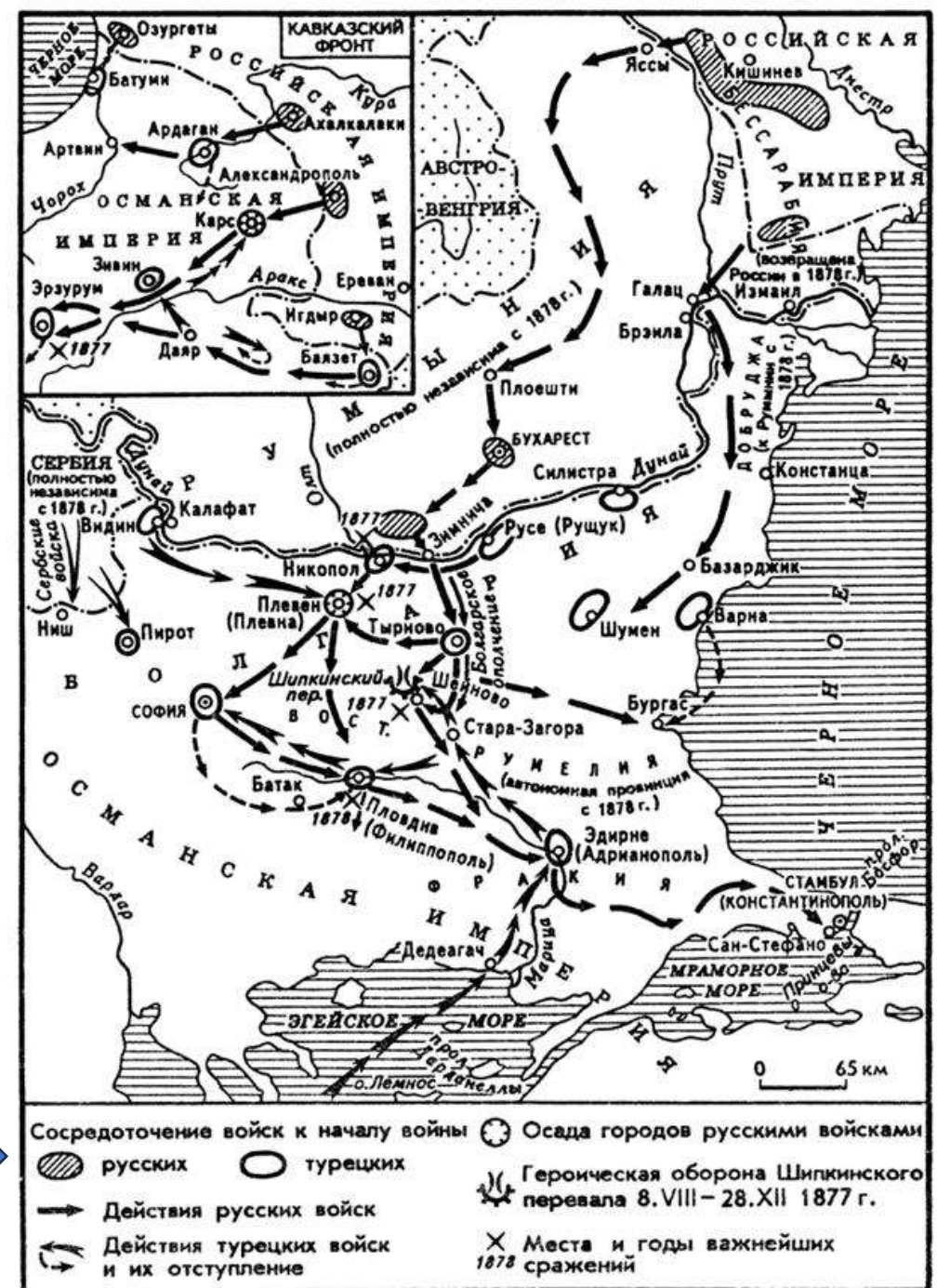
1. Это меньше той земли, которой они пользовались до реформы, и не обеспечивало им прожиточного минимума.
2. Тогда-то и родилась поговорка: «Курёнка некуда выпустить».
3. Вся земля, которую крестьяне получили в «постоянное пользование», юридически оставалась собственностью помещиков до заключения выкупной сделки.



Используя карту и текст 2, ответьте на вопрос.

Какой тип войск обозначен на карте особым значком «Сосредоточение ... войск»?

- Только русские войска
- Только турецкие войска
- И русские, и турецкие войска
- Войска третьих стран



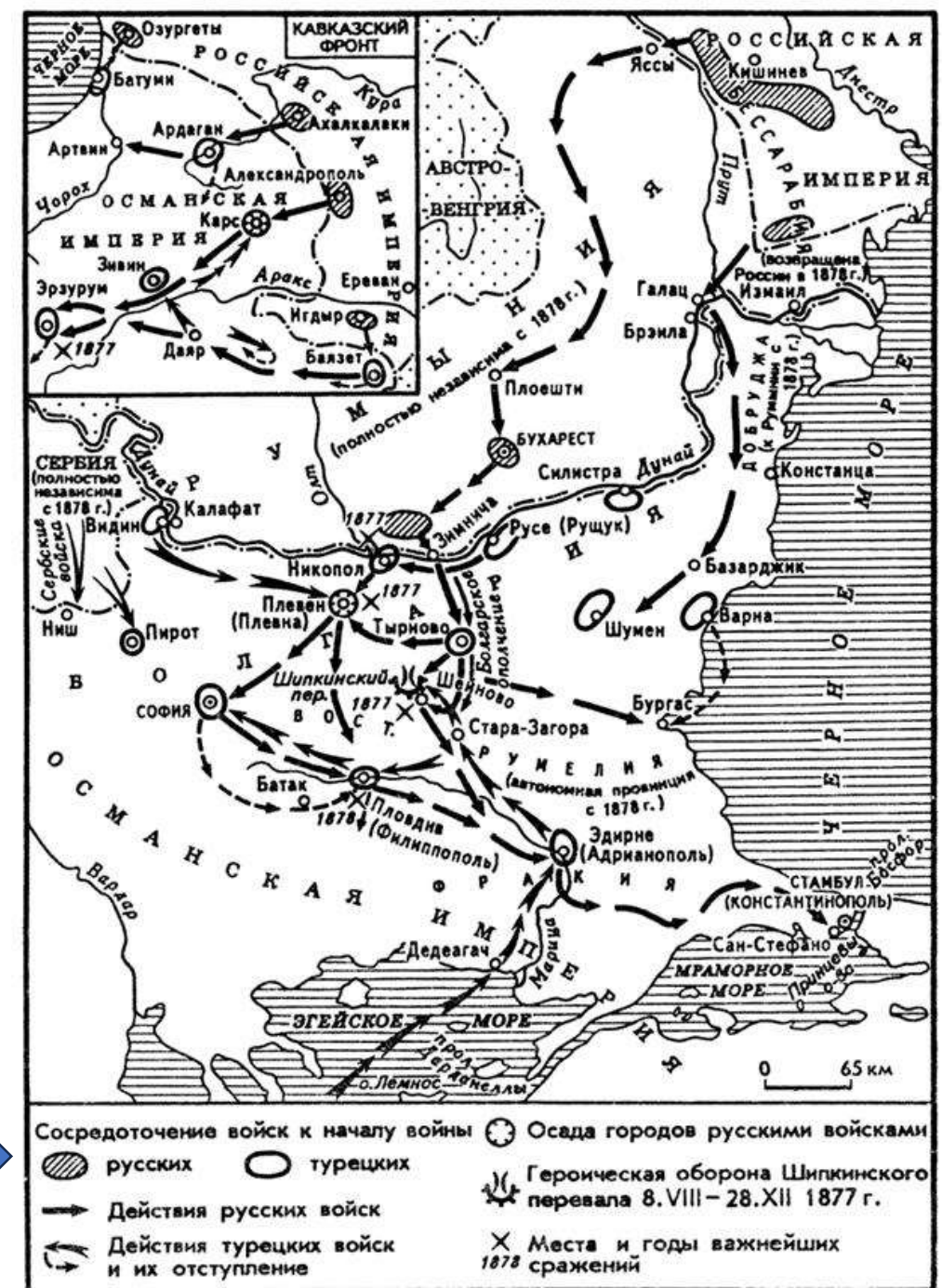
Русско-турецкая война 1877-1878 гг.



Используя карту и текст 2, ответьте на вопрос.

Какой тип войск обозначен на карте особым значком «Сосредоточение ... войск»?

- Только русские войска
- Только турецкие войска
- И русские, и турецкие войска
- Войска третьих стран



Русско-турецкая война 1877-1878 гг.

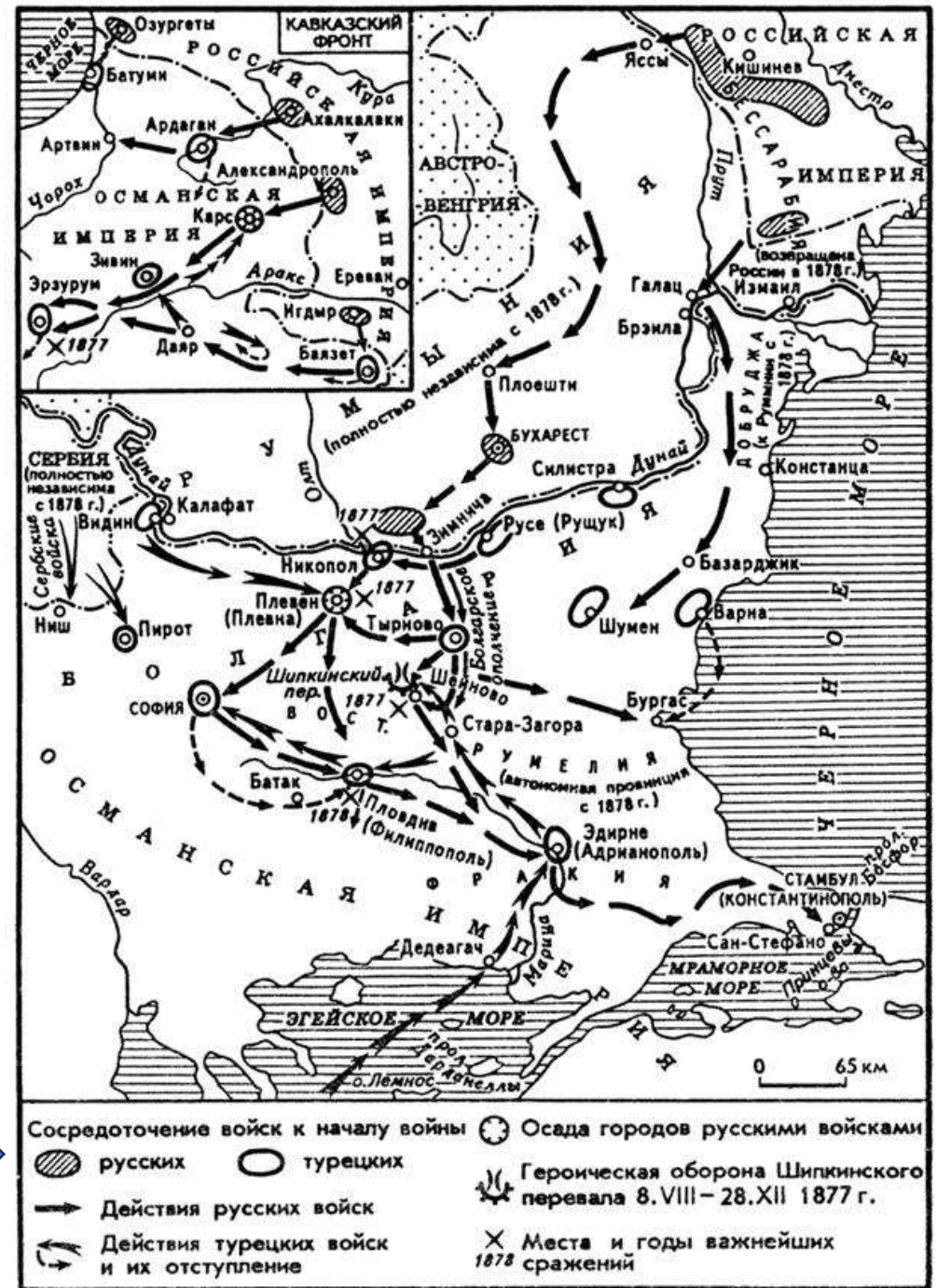


Используя карту и текст 2, ответьте на вопрос.

Какие типы военных действий или событий отмечены на карте?

Выберите ВСЕ правильные варианты.

- Сосредоточение войск перед войной
- Осада городов русскими войсками
- Отступление турецких войск
- Места крупных морских сражений
- Годы важнейших сражений



Русско-турецкая война 1877-1878 гг.

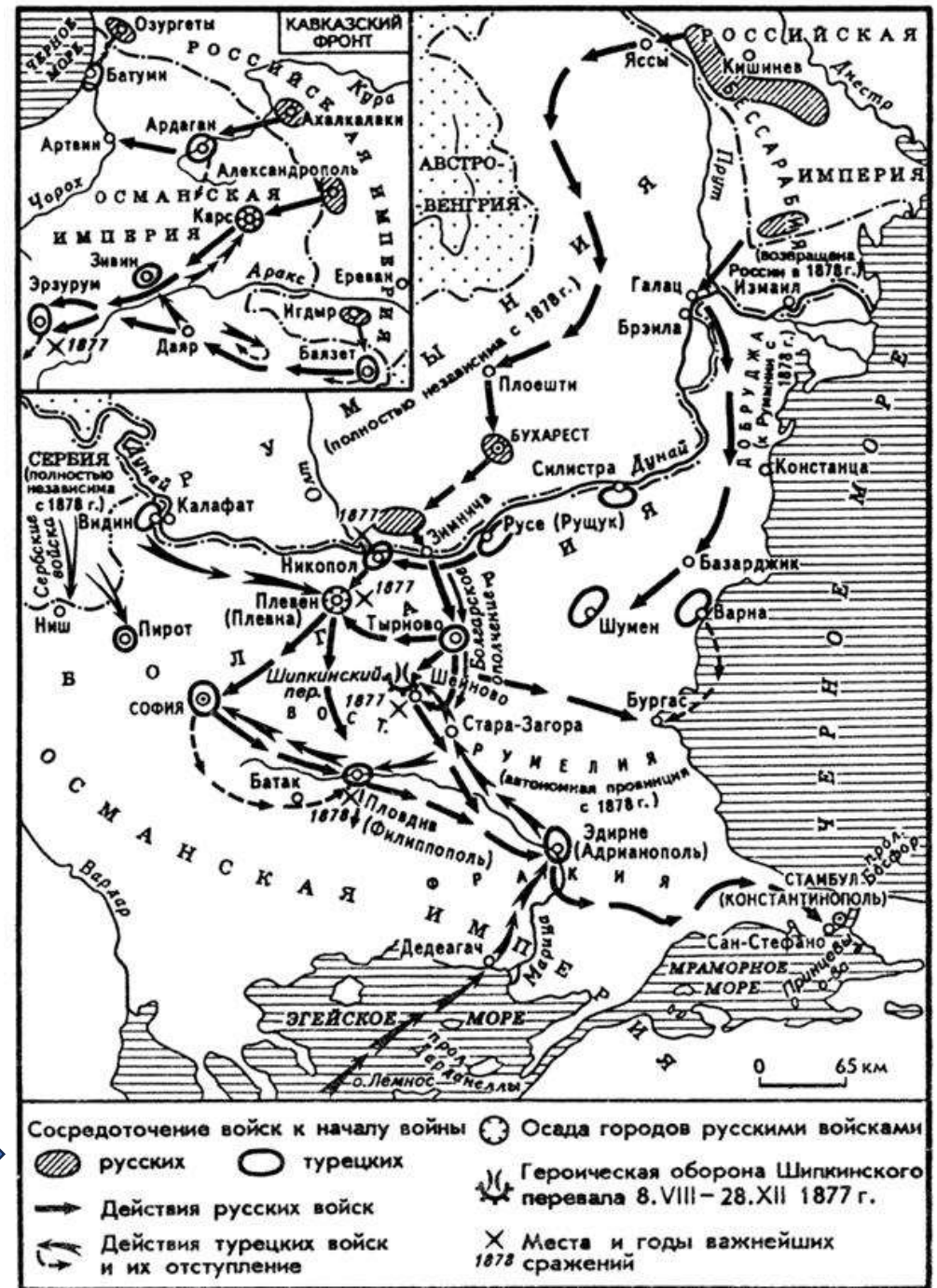


Используя карту и текст 2, ответьте на вопрос.

Какие типы военных действий или событий отмечены на карте?

Выберите ВСЕ правильные варианты.

- Сосредоточение войск перед войной
- Осада городов русскими войсками
- Отступление турецких войск
- Места крупных морских сражений
- Годы важнейших сражений



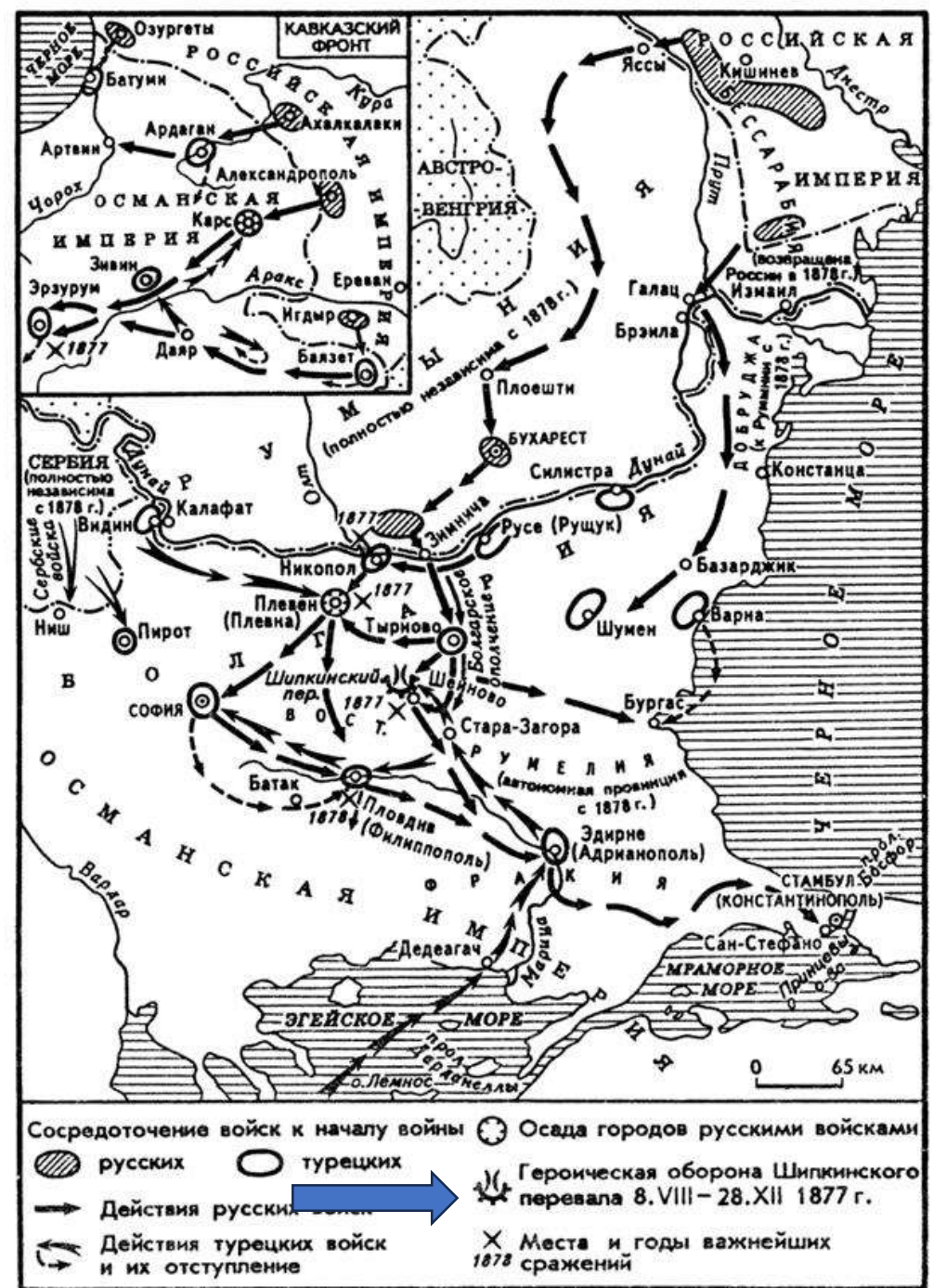
Русско-турецкая война 1877-1878 гг.



Используя карту и текст 2, ответьте на вопрос.

На карте указаны даты обороны Шипкинского перевала: 8.VIII – 28.XII 1877 г. Сколько месяцев длилась оборона (приблизительно)?

- Около 1 месяца
- Около 2,5 месяцев
- Около 4,5 месяцев
- Около 6 месяцев



Русско-турецкая война 1877-1878 гг.

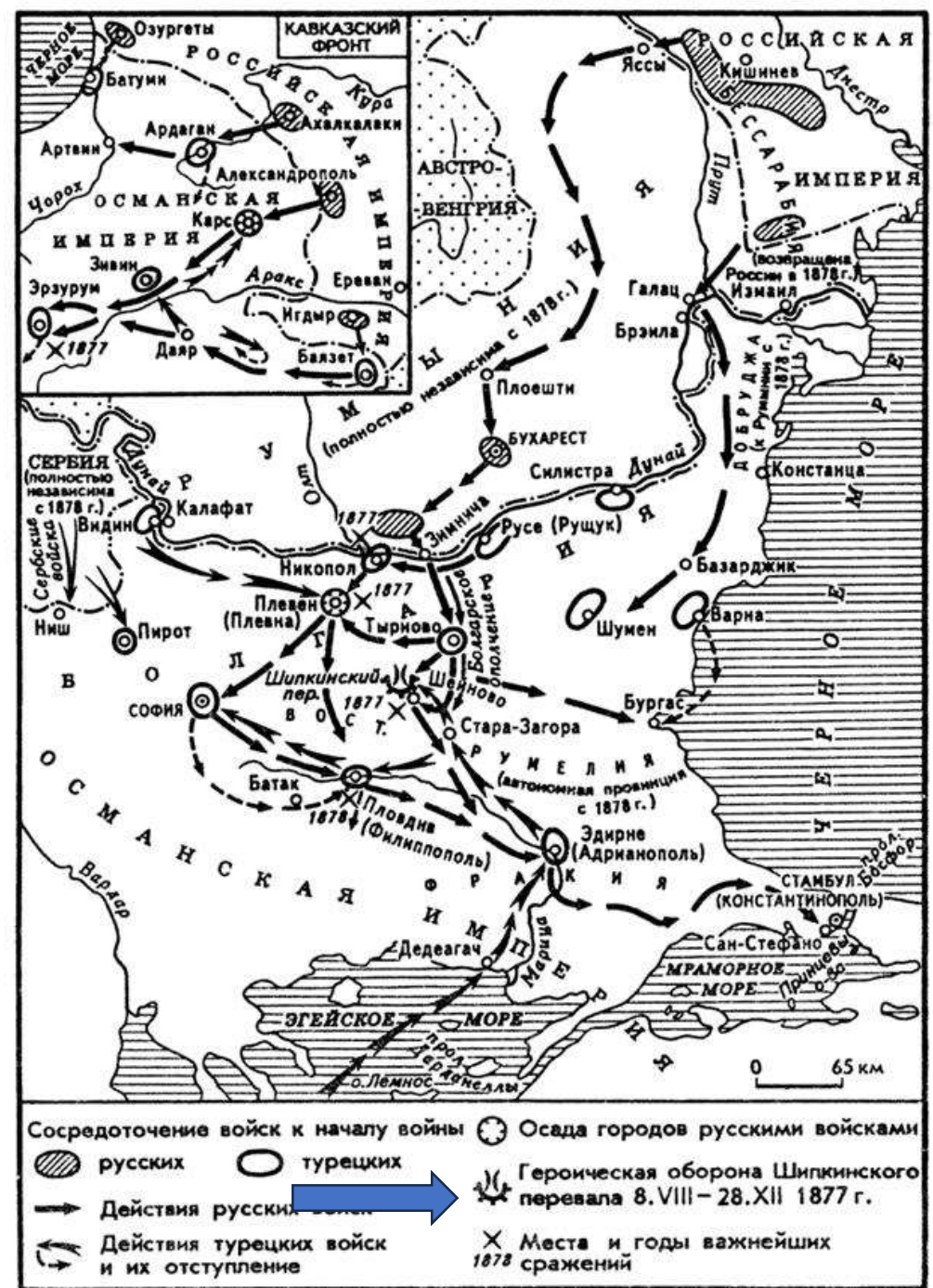


Используя карту и текст 2, ответьте на вопрос.

На карте указаны даты обороны Шипкинского перевала: 8.VIII – 28.XII 1877 г. Сколько месяцев длилась оборона (приблизительно)?

- Около 1 месяца
- Около 2,5 месяцев
- **Около 4,5 месяцев**
- Около 6 месяцев

Пояснение: с 8 августа по 28 декабря — это почти 5 месяцев, ближе всего 4,5.



Русско-турецкая война 1877-1878 гг.



Практические советы по выполнению заданий с историческим текстами и картами



Совет 1. Текст и карта — это два источника, которые дополняют друг друга

- В тексте часто есть **причины, последствия, даты, имена.**
- На карте есть **география, направления, расположение войск, территории.**
- Ни один из источников не является «главнее» — работайте с ними **одновременно.**

Совет 2. Всегда начинайте с легенды карты

Легенда (условные обозначения) — это ключ ко всей карте. Без неё вы не поймёте:

- что обозначено **точками, стрелками, значками;**
- **какие войска где находятся;**
- что означают **линии (границы, наступление, отступление).**





Практические советы по выполнению заданий с историческим текстами и картами



Совет 3. Сопоставляйте даты из текста и карты

На карте могут быть указаны годы или месяцы сражений. Сравните их с текстом:

- совпадают ли они?
- не противоречат ли друг другу?
- какая информация точнее?

Совет 4. Ищите пространственные маркеры в тексте

В историческом тексте часто встречаются слова: *север, юг, запад, восток, через реку, в горах, у границы, в Поволжье, за Дунаем*. Найдите эти места на карте — так вы проверите и уточните информацию.



Алгоритм действий для одного задания



Прочитайте вопрос и определите, что требуется найти (дату, направление, процент, причину, последствие).



Изучите легенду карты – условные обозначения (стрелки, значки, цвета, линии).



Найдите на карте объекты, о которых идёт речь в вопросе (города, реки, границы, места сражений).



Найдите в тексте информацию, относящуюся к вопросу (даты, числа, имена, причины, проценты).




Сопоставьте данные с карты и из текста – они должны дополнять друг друга, а не противоречить.



Сформулируйте ответ – выберите вариант или варианты ответа.



Проверьте себя – не противоречит ли ответ тому, что изображено на карте и написано в тексте.





Спасибо за внимание!

ЦНПМ