



Онлайн мастерская «Школа профессионального мастерства»

Разбор задания №11 Регионального исследования
компетенций учителя по литературе по теме
«Читательская грамотность»

12 мая 2026 г.

Спикер: ст. преподаватель Калачева И.Е.

Задание 11. Читательская грамотность

1. Какое наиболее точное определение можно дать понятию «местные анестетики», исходя из предложенного текста 1?

Выберите верный ответ.

- Лекарства, используемые для обезболивания определённого участка тела.
- Лекарственные препараты, используемые для снятия некомфортных ощущений во время проведения медицинских процедур.
- Лекарства, которые изготавливают в виде мази, геля, крема, капель, спрея или пасты.
- Лекарственные препараты, обладающие локальным действием.

2. Используя текст 1, напишите, в каких случаях медицинский работник **НЕ проводит** местную анестезию?

Отметьте верные варианты ответа:

- при лечении кариеса на коренных зубах
- при полостной операции на кишечнике
- при заборе крови у маленьких детей
- при сеансе спортивного массажа
- при наложении швов на рану

3. В тексте 1 говорится о «действии местных анестетиков». Какие структуры включаются в процесс восприятия боли человеком?

Расположите эти структуры в последовательности, представленной в тексте, начиная с повреждающего фактора.

Курсором мыши переместите выбранный ответ в нужное поле.

3 часа 0 минут на выполнение работы

Завершить бл

МЕСТНАЯ АНЕСТЕЗИЯ

Текст 1

Местные анестетики используют для обезболивания определённого участка тела, пациент при этом остаётся в сознании, но не чувствует боли, так как в зоне операции исчезает чувствительность. После такой операции пациент в большинстве случаев может вернуться домой, не оставаясь длительное время в больнице. Местные анестетики используются хирургами, стоматологами и анестезиологами при проведении многих малых операций и других болезненных процедур.

Местная анестезия позволяет проводить операции, когда пациент находится в сознании. Местные анестетики используются во многих случаях:

- стоматологические процедуры, включая пломбирование и удаление зубов;
- наложение швов на рану;
- удаление небольших кожных образований, таких как бородавки и родинки;
- биопсия тканей;
- малые однодневные операции на глазах и других органах чувств, устранение грыжи;

Виды текстов для заданий по читательской грамотности


1. Художественный текст

Примеры: рассказ, отрывок из повести, басня, притча, сцена из пьесы.

Особенности:

- Авторская позиция не названа прямо, а проявляется через поступки героев, диалоги, описания.
- Есть герои с их характерами, речью, мотивами.
- Есть конфликт (противостояние добра и зла, человека и природы, личности и общества).
- Важны детали (пейзаж, жест, молчание, повторяющиеся образы).
- Присутствует подтекст – смысл, не выраженный прямо.

Трудность	Как проявляется
Неумение видеть подтекст	Читатель понимает только прямые слова, но не скрытый смысл
Путаница между героями	Много персонажей, похожие имена или клички
Пропуск важных деталей	Описание природы или жеста кажется «лишним»
Непонимание иронии	Фразу «Человек – царь природы» принимают за правду, а не за насмешку
Приписывание автору прямых оценок	Ждут, что автор скажет «это хорошо» или «это плохо»



2. Научно-популярный текст

Примеры: статья о здоровье, описание природного явления, рассказ о научном открытии, объяснение химического процесса.

Особенности:

- Сочетание фактов и объяснений.
- Есть причинно-следственные связи (почему? из-за чего?).
- Присутствуют термины и их определения.
- Есть числовые данные (даты, проценты, количества).
- Примеры из жизни или истории иллюстрируют научные положения.

Трудность	Как проявляется
Путаница с числами	Перепутали миллион и тысячу, век и год
Неумение найти причину	Пропускают слова «потому что», «так как»
Игнорирование терминов	Не замечают, что термин тут же объяснён
Придумывание лишнего	Добавляют свои знания, которых нет в тексте
Неверный вывод	Делают вывод, не подтверждённый текстом




3. Биографический текст (об известных людях)

Примеры: рассказ о жизни композитора, художника, учёного, полководца.

Особенности:

- Хронология: детство → молодость → зрелые годы → старость.
- Есть ключевые события (рождение, обучение, достижения, болезни, смерть).
- Описываются препятствия и их преодоление.
- Часто приводятся цитаты героя (письма, дневники, завещания).
- Автор может прямо называть черты характера (упорство, сила духа).

Трудность	Как проявляется
Путаница между возрастом и годом	«В 28 лет» и «в 1801 году» – разные вещи
Пропуск важных дат	Не запомнили, когда родился или умер герой
Неумение найти черты характера	Не видят прямых оценок автора в конце текста
Игнорирование цитат	Считают их неважными, а они ключевые
Смешение фактов из разных текстов	Если несколько героев – путают, кто что сделал



4. Официально-деловой текст

Примеры: законы, кодексы (Трудовой, Семейный), договоры, правила, инструкции.

Особенности:

- Точность и однозначность – нет метафор и иронии.
- Стандартизированная форма: статьи, пункты, нумерация.
- Есть юридические термины (работодатель, испытание, опекун).
- Чёткие формулировки: «запрещается», «допускается», «обязан», «имеет право».
- Обязательно есть цифры (возраст, сроки, количество дней).
- Присутствует структура: общее правило → исключения.

Трудность	Как проявляется
Путаница между возрастaми	14, 15, 16 лет – разные правила
Пропуск условий «и» / «или»	Нужны оба согласия, а берут одно
Игнорирование исключений	Прочитали общее правило и остановились
Непонимание «обязан» vs «имеет право»	Долженствование и возможность – разное
Добавление своих знаний	В законе важно только то, что написано



5. Текст с картой или изображением

Примеры: историческая карта (войны, сражения), схема (театральный зал), инфографика, список, фотография с подписями.

Особенности:

- Информация передаётся не только словами, но и визуально.
- Есть легенда (условные обозначения: стрелки, значки, цвета).
- Пространственное расположение объектов имеет значение (где находится? что рядом? куда ведёт стрелка?).
- Возможны несоответствия между текстом и изображением (проверка критического мышления).

Трудность

Как проявляется

Игнорирование легенды

Не поняли, что обозначают стрелки и значки

Неумение читать пространство

Путают «перед», «за», «над», «под»

Противоречие между текстом и картой

Не замечают ошибку или несоответствие

Лишние детали на изображении

Отвлекаются на то, о чём не спрашивают

Масштаб воспринимается буквально

Думают, что размер на схеме = размер в реальности



Прочитайте текст (и/или рассмотрите изображение/карту) целиком.



Определите тип текста.



Выделите ключевую информацию в зависимости от типа текста (даты, цифры и др.).



Если есть изображение/карта – изучите легенду и подписи.



Прочитайте задание.



Найдите в тексте и/или на изображении фрагмент, который содержит ответ.



Сопоставьте информацию из разных частей текста или из текста и изображения (если необходимо).



Сформулируйте ответ(ы) в соответствии с типом задания.



Проверьте себя.



Республика Дагестан

Текст № 1

Информация о регионе

Республика Дагестан расположена на северо-восточном склоне Большого Кавказа и юго-западе Прикаспийской низменности. Площадь территории Республики Дагестан составляет 50 270 км², она является самой крупной из всех республик Северного Кавказа. С востока Дагестан омывается водами Каспийского моря. Береговая линия слабо изрезана и имеет протяжённость 530 км от устья реки Кумы на севере до устья реки Самур на юге. Протяжённость территории Дагестана составляет с севера на юг 420 км и с запада на восток 216 км. Средняя высота над уровнем моря – 960 м, высшая точка – гора Базардюзю (4466 м). Горы занимают площадь 25,5 тыс. км². Наиболее низкое место (28 м) находится в пределах Терско-Кумской низменности.



Текст № 2

Население

Численность населения Республики Дагестан на 1 января 2021 г. составляла 3 133,3 тыс. человек, из них: городское население – 1 419,9 тыс. человек, сельское – 1 713,4 тыс. человек.

В столице – г. Махачкале – 604,3 тыс. человек (на 1 января 2021 г.): наиболее крупные города: Хасавюрт – 146,4 тыс. человек, Каспийск – 128,7 тыс. человек, Дербент – 126,6 тыс. человек, Буйнакск – 66,4 тыс. человек.

Таблица 1

Основные демографические показатели Республики Дагестан за период 2015–2020 гг.

Годы	2015	2016	2017	2018	2019	2020
Численность населения (оценка на конец года), тыс. человек	3 015,7	3 041,9	3 063,9	3 086,1	3 110,8	3 133,3
в том числе:						
мужчины	1 451,8	1 465,5	1 477,2	1 489,1	1 503,2	1 515,4
женщины	1 563,9	1 576,4	1 586,7	1 597,0	1 607,6	1 617,9
Из общей численности – население в трудоспособном возрасте, тыс. человек	1 837,7	1 845,9	1 844,1	1 846,1	1 885,8	1 891,1
Естественный прирост, убыль (–) на 1000 человек населения	12,9	12,3	11,3	10,8	10,0	8,8
Ожидаемая продолжительность жизни при рождении, число лет:						
всё население	76,39	77,23	77,79	78,69	79,10	76,43
мужчины	73,18	74,19	75,02	75,82	76,62	73,33
женщины	79,47	80,12	80,42	81,36	81,44	79,39



Этнический состав

Дагестан – самая многонациональная республика в составе РФ. Численность русских на территории республики невелика и составляет около 3,5%. Наиболее многочисленной является нахско-дагестанская языковая группа, в которую входят табасараны, цахуры, лезгины, аварцы, арчинцы и другие. Общая численность народов этой группы составляет около 74% населения республики. Также здесь проживают народы тюркской группы – ногайцы, кумыки и азербайджанцы. Их доля в общей численности населения республики не превышает 20%. Наименее многочисленны народы иранской группы, включая народности горских евреев, осетинов и персов, их доля в населении Республики Дагестан не превышает 1%.

*Естественный прирост населения Республики Дагестан
в 2015–2020 гг.*

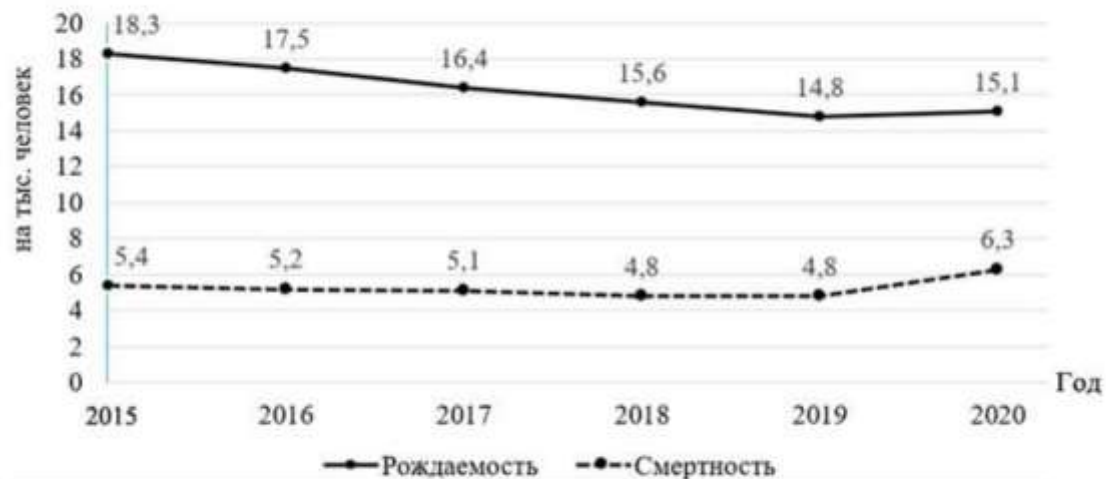


Рис. 2



Дагестан уникален как природными, так и рукотворными красотами: горы, каньоны, водопады, национальные парки, исторические поселения и древние крепости. Первые поселения здесь возникли 2 млн лет назад, во времена палеолита, и длительное время изменялись через насыщенные разными событиями Средние века. В 1801 г. население региона в лице уцмия, владетеля и хана обратились к российскому императору Александру I за предоставлением подданства. С 1802 г. на этой территории сформирована губерния, которая получила название Кавказской.

Дербент

Дербент расположен между Каспийским морем и Кавказскими горами, в 30 км южнее проходит граница с Азербайджаном. Географическое положение сделало Дербент одной из самых важных точек обороны для многих государств – только на этом участке шириной 3 км можно пройти в обход Кавказских гор на территорию Передней Азии. В древности за Дербентом располагалась Персия – и сам город основали персы как крепость для защиты от набегов кочевников с севера. Это город с историей в несколько тысяч лет. Его неоднократно захватывали разные государства, а в XVIII в. Дербент даже был независимым ханством.



Название города у древних греков, римлян и других народов звучит по-разному, но практически у всех связано с воротами – Железные, Морские, Закрытые, Каспийские. Первым упомянул Каспийские ворота древнегреческий географ ещё в VI в. до нашей эры, но тогда полноценных защитных сооружений ещё не было. Строительство современного города началось с большой каменной цитадели Нарын-Кала на высоком холме.

Мощные стены, глубокое ущелье с крутым и склонами, опоясывающее цитадель с трёх сторон, наличие системы хранилищ для больших запасов воды делали цитадель Нарын-Кала почти неприступной.

К России Дербент присоединялся дважды: при Петре I и в 1813 г. Сейчас это многонациональный город – в нём живут дагестанцы, азербайджанцы, русские, горские евреи. В архитектуре города сохранился отпечаток каждой эпохи существования Дербента. В 2015 г. отмечалось 2000-летие со дня основания Дербента – центра трёх мировых религий, именуемого иначе российским Иерусалимом. Несмотря на то, что возраст в 2000 лет упоминается в тексте указа Президента России, дата основания Дербента точно не установлена. Споры на тему «сколько лет Дербенту» в Дагестане идут давно. Сейчас Дербент – самый южный город России. И, возможно, самый древний город России.



Текст № 4

Природа

Дагестан расположен в умеренном климатическом поясе, из-за большой удалённости от океанов, здесь континентальный климат, значительно более холодный и сухой в сравнении с климатом Черноморского побережья Кавказа. Самые тёплые месяцы на низменности и в низкогорье – июль–август (от +17 до +24 °С), а в среднегорной и высокогорной частях – август (от +8 до +16 °С). Осадков выпадает в среднем за год 200–300 мм в Низменном, 400–600 мм во Внутреннем и 600–1000 мм и более в Высокогорном Дагестане. Недра Дагестана богаты разнообразными полезными ископаемыми. Разведаны многочисленные месторождения полезных ископаемых, грунтовых, артезианских термальных и минеральных вод.

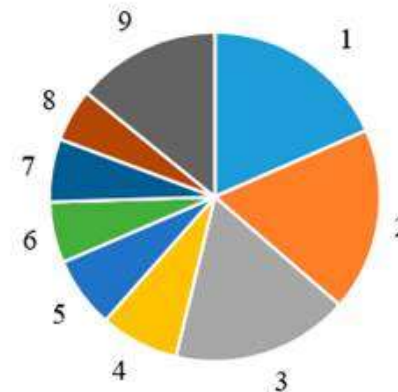


Текст № 5

Экономика республики в 2020–2021 гг.

На территории Дагестана развиты добыча нефти и природного газа, машиностроение, химическая, лёгкая и пищевая промышленность. Валовой продукт на душу населения в 2020 г. составлял 203,3 тыс. руб. (32-е место в Российской Федерации).

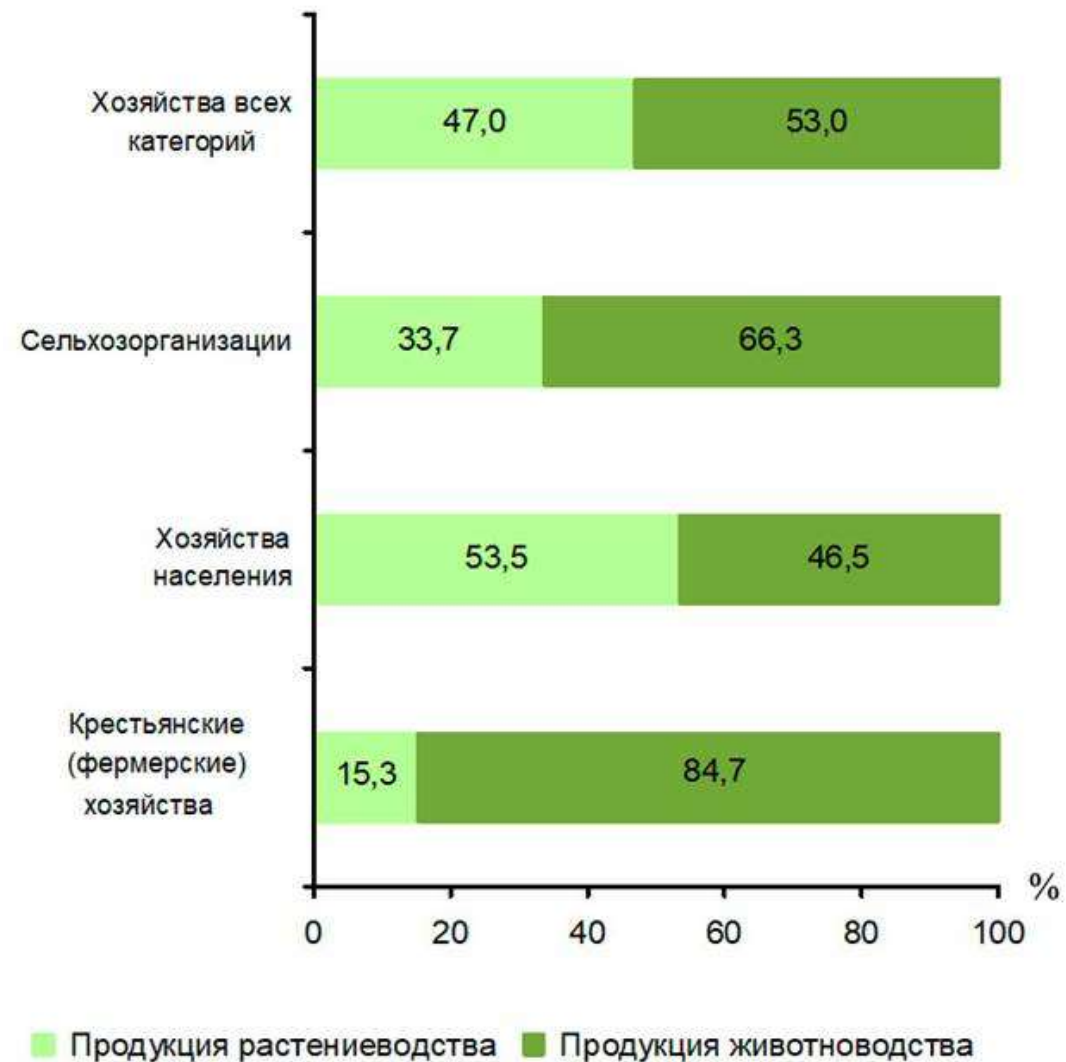
Структура валового регионального продукта Республики Дагестан по видам экономической деятельности в 2021 г. (в текущих основных ценах; в процентах к ВРП)^[3]



- 1 – Сельское, лесное хозяйство, охота, рыболовство и рыбоводство
- 2 – Торговля оптовая и розничная; ремонт автотранспортных средств и мотоциклов
- 3 – Строительство
- 4 – Деятельность по операциям с недвижимым имуществом
- 5 – Государственное управление и обеспечение военной безопасности; социальное обеспечение
- 6 – Образование
- 7 – Деятельность в области здравоохранения и социальных услуг
- 8 – Транспортировка и хранение
- 9 – Прочие виды экономической деятельности

Сельское хозяйство Республики Дагестан специализируется на виноградарстве, садоводстве, овощеводстве. Развито овцеводство мясо-шёрстного направления, козоводство. Доля сельскохозяйственной продукции в общем объёме производства продукции в сельском хозяйстве РФ составляла в 2020 г. примерно 2,5%. Республика Дагестан располагает земельными ресурсами (особенно в горной местности), на которых можно и нужно работать, производить продукцию. Однако все больше людей, в частности молодёжи, уезжают из родных сёл в города республики, а то и за пределы Дагестана.

Удельный вес продукции растениеводства и животноводства в продукции сельского хозяйства в 2020 г., %



Задание №1. Выберите правильный ответ.

Используя текст № 5 и рис. 4, определите, какое утверждение о сельском хозяйстве Дагестана верно.

А) В структуре сельскохозяйственного производства в 2020 г. преобладала продукция животноводства.

Б) Доля сельскохозяйственной продукции Дагестана в общем объёме производства продукции в сельском хозяйстве России составляла в 2020 г. около 20%.

- 1) Верно только утверждение А.
- 2) Верно только утверждение Б.
- 3) Верны оба утверждения.
- 4) Оба утверждения неверны.

i Номер: 7893С4 ★ 1 (45992D)

Статус задания: **РЕШЕНО**

ОТВЕТИТЬ



Задание №1. Выберите правильный ответ.

Используя текст № 5 и рис. 4, определите, какое утверждение о сельском хозяйстве Дагестана верно.


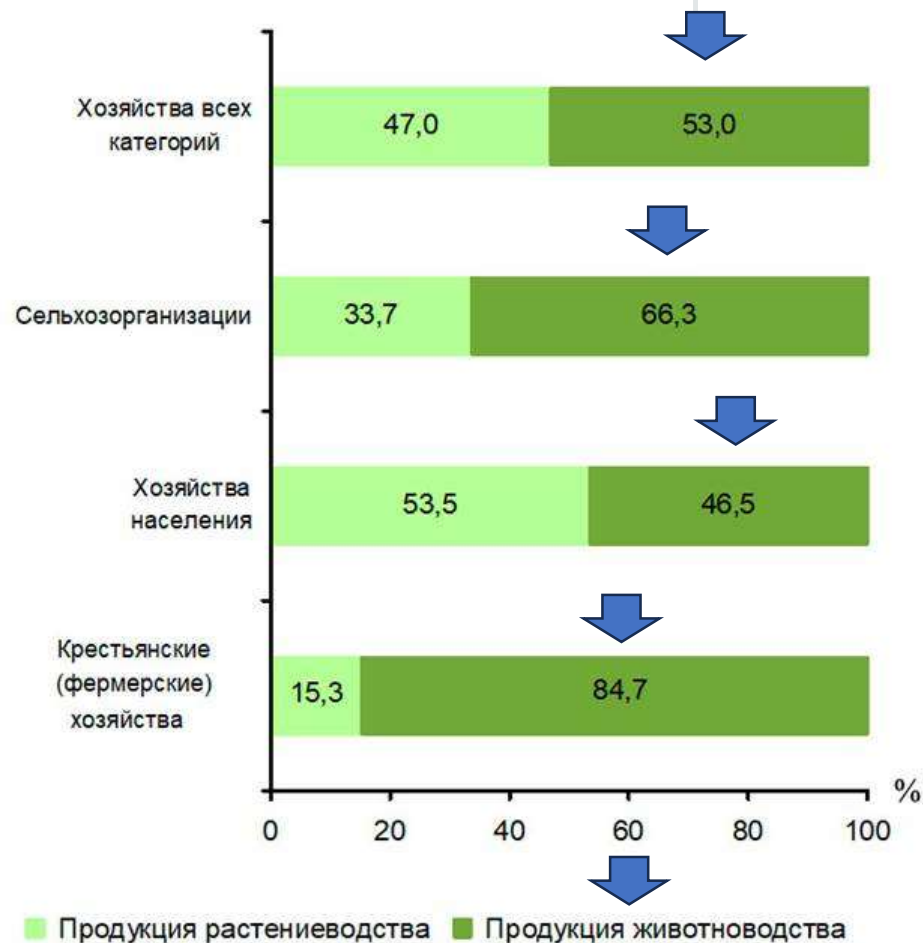
А) В структуре сельскохозяйственного производства в 2020 г. преобладала продукция животноводства.

Б) Доля сельскохозяйственной продукции Дагестана в общем объёме производства продукции в сельском хозяйстве России составляла в 2020 г. около 20%.

- 1) Верно только утверждение А.
- 2) Верно только утверждение Б.
- 3) Верны оба утверждения.
- 4) Оба утверждения неверны.

Номер: 7893С4 ★ 1 (45992D) Статус задания: РЕШЕНО

Сельское хозяйство Республики Дагестан специализируется на виноградарстве, садоводстве, овощеводстве. Развито овцеводство мясо-шёрстного направления, козоводство. Доля сельскохозяйственной продукции в общем объёме производства продукции в сельском хозяйстве РФ составляла в 2020 г. примерно 2,5%.



Задание №1. Выберите правильный ответ.

Используя текст № 5 и рис. 4, определите, какое утверждение о сельском хозяйстве Дагестана верно.

А) В структуре сельскохозяйственного производства в 2020 г. преобладала продукция животноводства.

Б) Доля сельскохозяйственной продукции Дагестана в общем объёме производства продукции в сельском хозяйстве России составляла в 2020 г. около 20%.

- 1) Верно только утверждение А.
- 2) Верно только утверждение Б.
- 3) Верны оба утверждения.
- 4) Оба утверждения неверны.

Номер: 7893С4



1 (45992D)

Статус задания: **ВЕРНО**

ОТВЕТИТЬ



Задание №2. Установите соответствие и напишите ответ.

Используя картосхему (рис. 1) и прочитав приведённый ниже текст, в котором пропущен ряд слов (словосочетаний), выберите из предлагаемого списка слова (словосочетания) и вставьте их на место пропусков.

На севере Дагестан граничит с Республикой Калмыкия, на _____ (А) со Ставропольским краем, на западе – с _____ (Б). На юго-западе Дагестан имеет выход к участку Государственной границы РФ с Грузией. Далее на юго-востоке республика также имеет выход к участку Государственной границы РФ. Граница проходит по гребню Главного Кавказского хребта до горы Базардюзю, а по руслу реки Самур – до её устья. Общая длина сухопутных границ Дагестана достигает 1181 км. Дагестан имеет выход также к участку Государственной морской границы РФ с _____ (В) кроме выхода к участку Государственной сухопутной границы с этой же страной.

Выбирайте последовательно одно слово (словосочетание) за другим, мысленно вставляя на места пропусков слова (словосочетания) из списка в нужной форме. Обратите внимание на то, что слов (словосочетаний) в списке больше, чем Вам потребуется для заполнения пропусков. Каждое слово (словосочетание) может быть использовано только один раз.

СПИСОК СЛОВ И СЛОВСОЧЕТАНИЙ:

- 1) северо-восток
- 2) северо-запад
- 3) Республика Ингушетия
- 4) Чеченская Республика
- 5) Азербайджан
- 6) Грузия

А	Б	В
▼	▼	▼



На севере Дагестан граничит с Республикой Калмыкия, на _____ (А) со Ставропольским краем, на западе – с _____ (Б). На юго-западе Дагестан имеет выход к участку Государственной границы РФ с Грузией. Далее на юго-востоке республика также имеет выход к участку Государственной границы РФ. Граница проходит по гребню Главного Кавказского хребта до горы Базардюзю, а по руслу реки Самур – до её устья. Общая длина сухопутных границ Дагестана достигает 1181 км. Дагестан имеет выход также к участку Государственной морской границы РФ с _____ (В) кроме выхода к участку Государственной сухопутной границы с этой же страной.

- 1) северо-восток
- 2) северо-запад
- 3) Республика Ингушетия
- 4) Чеченская Республика
- 5) Азербайджан
- 6) Грузия



На севере Дагестан граничит с Республикой Калмыкия, на **северо-западе**(А) со Ставропольским краем, на западе – с _____(Б). На юго-западе Дагестан имеет выход к участку Государственной границы РФ с Грузией. Далее на юго-востоке республика также имеет выход к участку Государственной границы РФ. Граница проходит по гребню Главного Кавказского хребта до горы Базардюзю, а по руслу реки Самур – до её устья. Общая длина сухопутных границ Дагестана достигает 1181 км. Дагестан имеет выход также к участку Государственной морской границы РФ с _____(В) кроме выхода к участку Государственной сухопутной границы с этой же страной.

- 1) северо-восток
- 2) северо-запад
- 3) Республика Ингушетия
- 4) Чеченская Республика
- 5) Азербайджан
- 6) Грузия



На севере Дагестан граничит с Республикой Калмыкия, на **северо-западе**(А) со Ставропольским краем, на западе – с **Чеченской республикой**(Б). На юго-западе Дагестан имеет выход к участку Государственной границы РФ с Грузией. Далее на юго-востоке республика также имеет выход к участку Государственной границы РФ. Граница проходит по гребню Главного Кавказского хребта до горы Базардюзю, а по руслу реки Самур – до её устья. Общая длина сухопутных границ Дагестана достигает 1181 км. Дагестан имеет выход также к участку Государственной морской границы РФ с _____(В) кроме выхода к участку Государственной сухопутной границы с этой же страной.

- 1) северо-восток
- 2) северо-запад
- 3) Республика Ингушетия
- 4) Чеченская Республика
- 5) Азербайджан
- 6) Грузия



На севере Дагестан граничит с Республикой Калмыкия, на **северо-западе**(А) со Ставропольским краем, на западе – с **Чеченской республикой**(Б). На юго-западе Дагестан имеет выход к участку Государственной границы РФ с Грузией. Далее на юго-востоке республика также имеет выход к участку Государственной границы РФ. Граница проходит по гребню Главного Кавказского хребта до горы Базардюзю, а по руслу реки Самур – до её устья. Общая длина сухопутных границ Дагестана достигает 1181 км. Дагестан имеет выход также к участку Государственной морской границы РФ с _____(В) кроме выхода к участку Государственной сухопутной границы с этой же страной.

- 1) северо-восток
- 2) северо-запад
- 3) Республика Ингушетия
- 4) Чеченская Республика
- 5) Азербайджан
- 6) Грузия



На севере Дагестан граничит с Республикой Калмыкия, на **северо-западе**(А) со Ставропольским краем, на западе – с **Чеченской республикой**(Б). На юго-западе Дагестан имеет выход к участку Государственной границы РФ с Грузией. Далее на юго-востоке республика также имеет выход к участку Государственной границы РФ. Граница проходит по гребню Главного Кавказского хребта до горы Базардюзю, а по руслу реки Самур – до её устья. Общая длина сухопутных границ Дагестана достигает 1181 км. Дагестан имеет выход также к участку Государственной морской границы РФ с **Азербайджан** (В) кроме выхода к участку Государственной сухопутной границы с этой же страной.

- 1) северо-восток
- 2) северо-запад
- 3) Республика Ингушетия
- 4) Чеченская Республика
- 5) Азербайджан
- 6) Грузия

А	Б	В
2 ▾	4 ▾	5 ▾

№ Номер: 752992
 ★
📄 2 (45992D)
 Статус задания: **ВЕРНО**



Задание №3. Выберите правильный ответ.

Какое высказывание о населении Дагестана верно? Отметьте верный ответ.

- 1) Наибольшая численность населения в Республике Дагестан наблюдалась в 2019 г.
- 2) Ожидаемая продолжительность жизни при рождении у мужчин выше, чем у женщин.
- 3) Этнический состав населения республики – однородный.
- 4) В общей численности населения Республики Дагестан преобладают сельские жители.



Номер: F5B98A



3 (45992D)

Статус задания: **РЕШЕНО**



ОТВЕТИТЬ

Годы	2015	2016	2017	2018	2019	2020
Численность населения (оценка на конец года), тыс. человек	3 015,7	3 041,9	3 063,9	3 086,1	3 110,8	3 133,3
в том числе:						
мужчины	1 451,8	1 465,5	1 477,2	1 489,1	1 503,2	1 515,4
женщины	1 563,9	1 576,4	1 586,7	1 597,0	1 607,6	1 617,9
Из общей численности – население в трудоспособном возрасте, тыс. человек	1 837,7	1 845,9	1 844,1	1 846,1	1 885,8	1 891,1
Естественный прирост, убыль (-) на 1000 человек населения	12,9	12,3	11,3	10,8	10,0	8,8
Ожидаемая продолжительность жизни при рождении, число лет:						
всё население	76,39	77,23	77,79	78,69	79,10	76,43
мужчины	73,18	74,19	75,02	75,82	76,62	73,33
женщины	79,47	80,12	80,42	81,36	81,44	79,39



Задание №3. Выберите правильный ответ.

Какое высказывание о населении Дагестана верно? Отметьте верный ответ.

- 1) Наибольшая численность населения в Республике Дагестан наблюдалась в 2019 г.
- 2) Ожидаемая продолжительность жизни при рождении у мужчин выше, чем у женщин.
- 3) Этнический состав населения республики – однородный.
- 4) В общей численности населения Республики Дагестан преобладают сельские жители.



Номер: F5B98A



3 (45992D)

Статус задания: РЕШЕНО

ОТВЕТИТЬ

Годы	2015	2016	2017	2018	2019	2020
Численность населения (оценка на конец года), тыс. человек	3 015,7	3 041,9	3 063,9	3 086,1	3 110,8	3 133,3
в том числе:						
мужчины	1 451,8	1 465,5	1 477,2	1 489,1	1 503,2	1 515,4
женщины	1 563,9	1 576,4	1 586,7	1 597,0	1 607,6	1 617,9
Из общей численности – население в трудоспособном возрасте, тыс. человек	1 837,7	1 845,9	1 844,1	1 846,1	1 885,8	1 891,1
Естественный прирост, убыль (-) на 1000 человек населения	12,9	12,3	11,3	10,8	10,0	8,8
Ожидаемая продолжительность жизни при рождении, число лет:						
всё население	76,39	77,23	77,79	78,69	79,10	76,43
мужчины	73,18	74,19	75,02	75,82	76,62	73,33
женщины	79,47	80,12	80,42	81,36	81,44	79,39



Задание №3. Выберите правильный ответ.

Какое высказывание о населении Дагестана верно? Отметьте верный ответ.

- 1) Наибольшая численность населения в Республике Дагестан наблюдалась в 2019 г.
- 2) Ожидаемая продолжительность жизни при рождении у мужчин выше, чем у женщин.
- 3) Этнический состав населения республики – однородный.
- 4) В общей численности населения Республики Дагестан преобладают сельские жители.



Номер: F5B98A



3 (45992D)

Статус задания: РЕШЕНО

ОТВЕТИТЬ

Этнический состав

Дагестан – самая **многонациональная республика** в составе РФ. Численность русских на территории республики невелика и составляет около 3,5%. Наиболее многочисленной является нахско-дагестанская языковая группа, в которую входят табасараны, цахуры, лезгины, аварцы, арчинцы и другие. Общая численность народов этой группы составляет около 74% населения республики. Также здесь проживают народы тюркской группы – ногайцы, кумыки и азербайджанцы. Их доля в общей численности населения республики не превышает 20%. Наименее многочисленны народы иранской группы, включая народности горских евреев, осетинов и персов, их доля в населении Республики Дагестан не превышает 1%.



Задание №3. Выберите правильный ответ.

Какое высказывание о населении Дагестана верно? Отметьте верный ответ.

- 1) Наибольшая численность населения в Республике Дагестан наблюдалась в 2019 г.
- 2) Ожидаемая продолжительность жизни при рождении у мужчин выше, чем у женщин.
- 3) Этнический состав населения республики – однородный.
- 4) В общей численности населения Республики Дагестан преобладают сельские жители.



Номер: F5B98A



3 (45992D)

Статус задания: **РЕШЕНО**

ОТВЕТИТЬ

Численность населения Республики Дагестан на 1 января 2021 г. составляла 3 133,3 тыс. человек, из них: городское население – 1 419,9 тыс. человек, сельское – 1 713,4 тыс. человек.



Задание №3. Выберите правильный ответ.

Какое высказывание о населении Дагестана верно? Отметьте верный ответ.

- 1) Наибольшая численность населения в Республике Дагестан наблюдалась в 2019 г.
- 2) Ожидаемая продолжительность жизни при рождении у мужчин выше, чем у женщин.
- 3) Этнический состав населения республики – однородный.
- 4) В общей численности населения Республики Дагестан преобладают сельские жители.



Номер: F5B98A



3 (45992D)

Статус задания: **ВЕРНО**

ОТВЕТИТЬ



Задание №4. Впишите правильный ответ.

Ученицам 8 класса Оксане и Марине нужно заполнить таблицу «Естественный прирост населения Республики Дагестан за период с 2015 по 2020 гг.». Оксана вписывала данные в таблицу динамики с 2015 г. до 2017 г. включительно, Марина – с 2018 г. до 2020 г. Учитель, оценив работу, отметил, что Оксана выполнила задание без ошибок, а Марина допустила ошибку, и попросил найти эту ошибку. Укажите год, за который показатели воспроизводства населения, зафиксированные на графике в тексте, не совпадают с показателями воспроизводства населения, обозначенными в таблице Мариной.

Естественный прирост населения Республики Дагестан за период с 2015 по 2020 гг.

Годы	2015	2016	2017	2018	2019	2020
Число родившихся на 1000 человек населения	18,3	17,5	16,4	15,6	15,4	15,1
Число умерших на 1000 человек населения	5,4	5,2	5,1	4,8	5,8	6,3

Марина Марина Марина

Оксана Оксана Оксана

Естественный прирост населения Республики Дагестан в 2015–2020 гг.

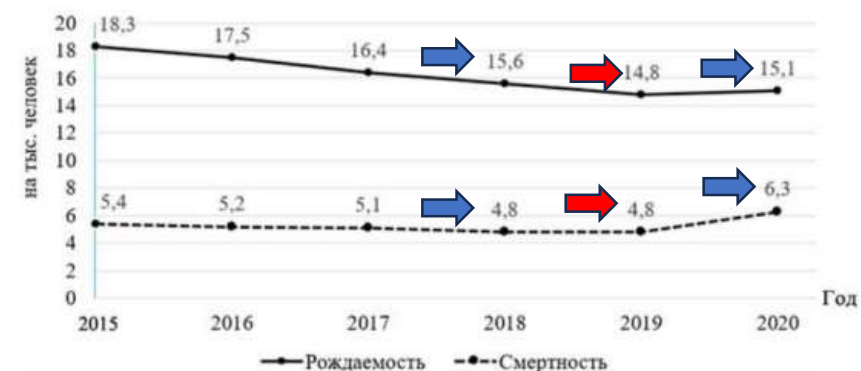


Рис. 2

Номер: 629873 4 (45992D) Статус задания: **РЕШЕНО**



Задание №4. Впишите правильный ответ.

Ученицам 8 класса Оксане и Марине нужно заполнить таблицу «Естественный прирост населения Республики Дагестан за период с 2015 по 2020 гг.». Оксана вписывала данные в таблицу динамики с 2015 г. до 2017 г. включительно, Марина – с 2018 г. до 2020 г. Учитель, оценив работу, отметил, что Оксана выполнила задание без ошибок, а Марина допустила ошибку, и попросил найти эту ошибку. Укажите год, за который показатели воспроизводства населения, зафиксированные на графике в тексте, не совпадают с показателями воспроизводства населения, обозначенными в таблице Мариной.

Естественный прирост населения Республики Дагестан за период с 2015 по 2020 гг.

Годы	2015	2016	2017	2018	2019	2020
Число родившихся на 1000 человек населения	18,3	17,5	16,4	15,6	15,4	15,1
Число умерших на 1000 человек населения	5,4	5,2	5,1	4,8	5,8	6,3

2019



Номер: 629873



4 (45992D)

Статус задания: **ВЕРНО**

ОТВЕТИТЬ



Задание №5. Впишите правильный ответ.

Используя данные графика (рис. 2), определите естественный прирост населения Республики Дагестан в 2020 г.

на тыс. человек



Номер: 709E7C



5 (45992D)

Статус задания: **НЕ РЕШЕНО**

ОТВЕТИТЬ

Естественный прирост населения Республики Дагестан в 2015–2020 гг.

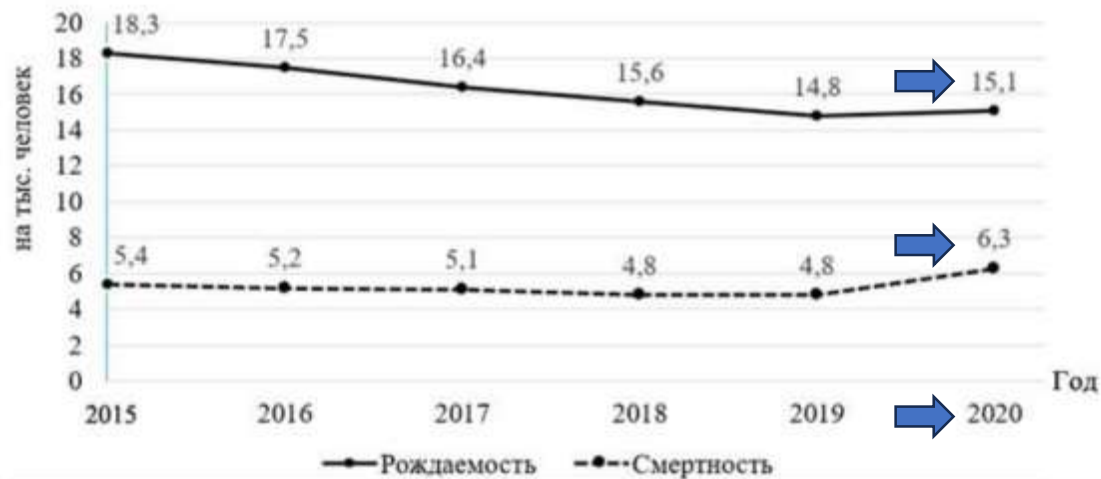


Рис. 2



Задание №5. Впишите правильный ответ.

Используя данные графика (рис. 2), определите естественный прирост населения Республики Дагестан в 2020 г.

_____ на тыс. человек

Номер: 709E7C ★ 5 (45992D)

Статус задания: **НЕ РЕШЕНО**

ОТВЕТИТЬ

$$15,1 - 6,3 = 8,8$$

*Естественный прирост населения Республики Дагестан
в 2015–2020 гг.*

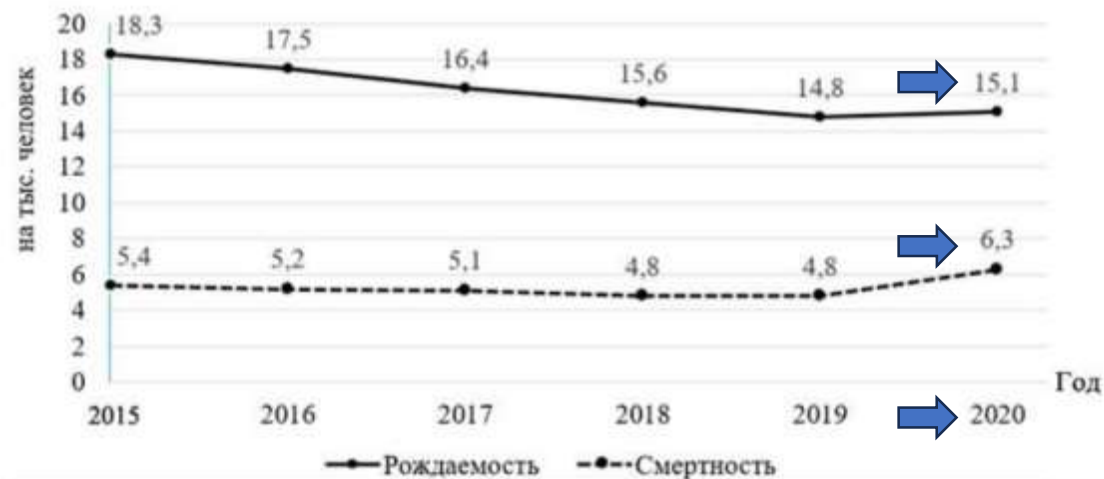


Рис. 2



Задание №5. Впишите правильный ответ.

Используя данные графика (рис. 2), определите естественный прирост населения Республики Дагестан в 2020 г.

8,8 на тыс. человек

i Номер: 709E7C



5 (45992D)

Статус задания: **ВЕРНО**

ОТВЕТИТЬ



Задание №6. Установите последовательность.

В тексте № 2 говорится о многонациональном составе населения Республики Дагестан, о принадлежности народов, населяющих республику к нескольким языковым группам, составляющим различную долю в общей численности населения республики. Расположите эти языковые группы в порядке уменьшения их доли в общей численности населения республики, начиная с наибольшей.

- 1) тюркская
- 2) иранская
- 3) нахско-дагестанская



Номер: AF4CE3



6 (45992D)

Статус задания: РЕШЕНО

ОТВЕТИТЬ

Наиболее многочисленной является нахско-дагестанская языковая группа, в которую входят табасараны, цахуры, лезгины, аварцы, арчинцы и другие. Общая численность народов этой группы составляет около 74% населения республики. Также здесь проживают народы тюркской группы – ногайцы, кумыки и азербайджанцы. Их доля в общей численности населения республики не превышает 20%. Наименее многочисленны народы иранской группы, включая народности горских евреев, осетинов и персов, их доля в населении Республики Дагестан не превышает 1%.



Задание №6. Установите последовательность.

В тексте № 2 говорится о многонациональном составе населения Республики Дагестан, о принадлежности народов, населяющих республику к нескольким языковым группам, составляющим различную долю в общей численности населения республики. Расположите эти языковые группы в порядке уменьшения их доли в общей численности населения республики, начиная с наибольшей.

- 1) тюркская
- 2) иранская
- 3) нахско-дагестанская

Номер: AF4CE3



6 (45992D)

Статус задания: **ВЕРНО**[ОТВЕТИТЬ](#)

Задание №7. Впишите правильный ответ.

Используя текст № 1 и данные таблицы 1, определите среднюю плотность населения Республики Дагестан в 2020 г. Ответ округлите до целого числа.

_____ человек на км²

Номер: CF067A ★ 7 (45992D)

Статус задания: НЕ РЕШЕНО

ОТВЕТИТЬ

Площадь территории Республики Дагестан составляет **50 270 км²**, она является самой крупной из всех республик Северного Кавказа.

Годы	2015	2016	2017	2018	2019	2020
Численность населения (оценка на конец года), тыс. человек	3 015,7	3 041,9	3 063,9	3 086,1	3 110,8	3 133,3
в том числе:						
мужчины	1 451,8	1 465,5	1 477,2	1 489,1	1 503,2	1 515,4
женщины	1 563,9	1 576,4	1 586,7	1 597,0	1 607,6	1 617,9
Из общей численности – население в трудоспособном возрасте, тыс. человек	1 837,7	1 845,9	1 844,1	1 846,1	1 885,8	1 891,1
Естественный прирост, убыль (–) на 1000 человек населения	12,9	12,3	11,3	10,8	10,0	8,8
Ожидаемая продолжительность жизни при рождении, число лет:						
всё население	76,39	77,23	77,79	78,69	79,10	76,43
мужчины	73,18	74,19	75,02	75,82	76,62	73,33
женщины	79,47	80,12	80,42	81,36	81,44	79,39



Задание №7. Впишите правильный ответ.

Используя текст № 1 и данные таблицы 1, определите среднюю плотность населения Республики Дагестан в 2020 г. Ответ округлите до целого числа.

_____ человек на км²

3 133 300 : 50 270 км²

Номер: CF067A ★ 7 (45992D)

Статус задания: НЕ РЕШЕНО

ОТВЕТИТЬ

Площадь территории Республики Дагестан составляет 50 270 км², она является самой крупной из всех республик Северного Кавказа.

Годы	2015	2016	2017	2018	2019	2020
Численность населения (оценка на конец года), тыс. человек	3 015,7	3 041,9	3 063,9	3 086,1	3 110,8	3 133,3
в том числе:						
мужчины	1 451,8	1 465,5	1 477,2	1 489,1	1 503,2	1 515,4
женщины	1 563,9	1 576,4	1 586,7	1 597,0	1 607,6	1 617,9
Из общей численности – население в трудоспособном возрасте, тыс. человек	1 837,7	1 845,9	1 844,1	1 846,1	1 885,8	1 891,1
Естественный прирост, убыль (–) на 1000 человек населения	12,9	12,3	11,3	10,8	10,0	8,8
Ожидаемая продолжительность жизни при рождении, число лет:						
всё население	76,39	77,23	77,79	78,69	79,10	76,43
мужчины	73,18	74,19	75,02	75,82	76,62	73,33
женщины	79,47	80,12	80,42	81,36	81,44	79,39



Задание №7. Впишите правильный ответ.

Используя текст № 1 и данные таблицы 1, определите среднюю плотность населения Республики Дагестан в 2020 г. Ответ округлите до целого числа.

62 человек на км²

Номер: CF067A



7 (45992D)

Статус задания: **ВЕРНО**

ОТВЕТИТЬ



Прочитайте текст (и/или рассмотрите изображение/карту) целиком.



Определите тип текста.



Выделите ключевую информацию в зависимости от типа текста (даты, цифры и др.).



Если есть изображение/карта – изучите легенду и подписи.



Прочитайте задание.



Найдите в тексте и/или на изображении фрагмент, который содержит ответ.



Сопоставьте информацию из разных частей текста или из текста и изображения (если необходимо).



Сформулируйте ответ(ы) в соответствии с типом задания.



Проверьте себя.





Спасибо за внимание!

ЦНПМ